



## Test-7

9. 

3	6	?	12	15	?	21
---	---	---	----	----	---	----

Yukarıdaki sayı dizisinde " ? " olan kutucuklara sırasıyla hangi sayılar gelmelidir ?

- A) 6 - 16                      B) 9 - 18  
C) 10 - 20                     D) 7 - 16

10. Bir sepette 11 tane elma, 15 tane armut vardır. Bu sepetten kaç tane armut alınırsa elma ve armutların sayısı eşit olur?

- A) 4                              B) 5  
C) 26                             D) 3

- 11.

$$\begin{array}{r} 7 \\ + \boxed{?} \\ \hline 14 \end{array}$$

Yukarıdaki toplama işlemine göre "?" olan kutucuğa hangi sayı gelmelidir?

- A) 6                              B) 7  
C) 8                              D) 9

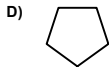
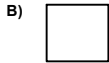
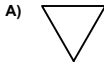
12. Beyza'nın 9 oyuncak bebeği vardı. Arkadaşları da 5 tane oyuncak bebek hediye ederse kaç oyuncak bebeği olur?

- A) 5                              B) 12  
C) 14                             D) 16

13. Fotoğraf albümümde 6 resim daha olursa toplam 21 resmim olacak. Buna göre şu anda kaç tane resimim vardır?

- A) 27                              B) 25  
C) 17                              D) 15

14. Aşağıda verilen geometrik şekillerden hangisi karedir?



15. Ali'nin 5, Ahmet'in 7, Mehmet'in ise 6 tane arabası vardır. Ali ile Ahmet'in arabalarının toplamı Mehmet ile Hüseyin'in arabalarının toplamına eşit olduğuna göre Hüseyin'in kaç tane arabası vardır?

- A) 5                              B) 6  
C) 7                              D) 8

16. Aşağıdaki sayılardan hangisi bir basamaklı bir sayıdır?

- A) 14                             B) 93  
C) 7                              D) 38