



Ad : \_\_\_\_\_  
Soyad : \_\_\_\_\_  
Sınıf: \_\_\_\_\_ No: \_\_\_\_\_

## Test-8

12.



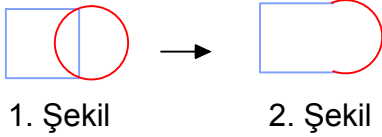
1. Şekil 2. Şekil

Yukarıda verilen şekiller üst üste getirilmektedir.

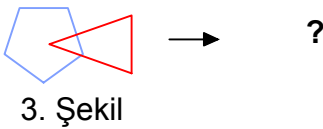
**Oluşan yeni şekil aşağıdakilerden hangisi olabilir?**



13.



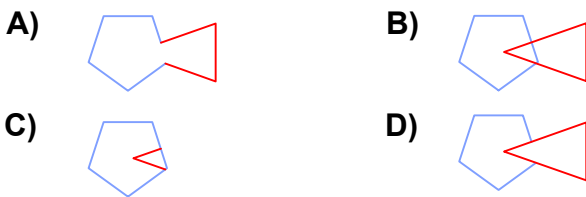
1. Şekil 2. Şekil



3. Şekil

1. şekil ve 2. şekil arasında bir ilişki bulunmaktadır.

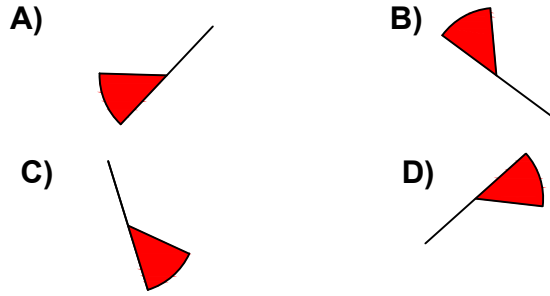
**Benzer ilişki 3. şekil ile hangisi arasında vardır**



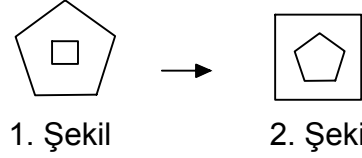
14.

Aşağıdaki şekillerde verilen şekillerden biri diğerlerinden farklıdır.

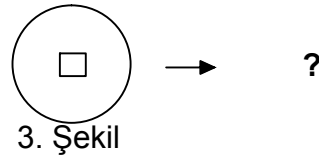
**Farklı olan şekil hangisidir?**



15.



1. Şekil 2. Şekil



3. Şekil

1. şekil ve 2. şekil arasında bir ilişki bulunmaktadır.

**Benzer ilişki 3. şekil ile hangisi arasında vardır**

