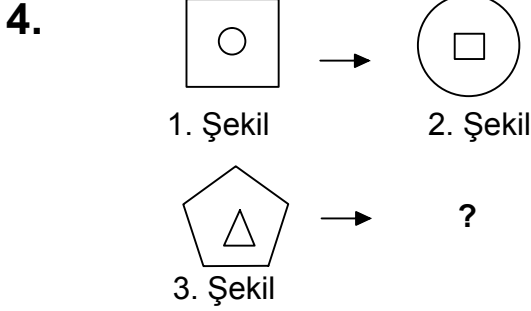





## Test-8



1. şekil ve 2. şekil arasında bir ilişki bulunmaktadır.  
**Benzer ilişki 3. şekil ile hangisi arasında vardır**

- A) B)   
C) D)

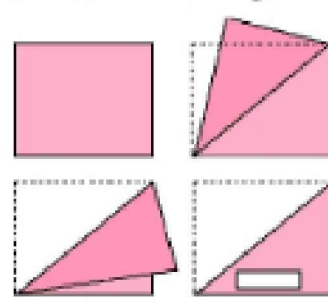
5.



Yukarıdaki resmin bir parçası çıkarılmıştır.  
**Çıkarılan parça aşağıdakilerden hangisidir?**

- A) B)   
C) D)

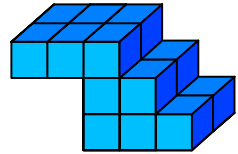
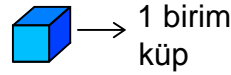
6.



Kağıt yukarıdaki şekildeki gibi katlanıp bir delik çalıyor.  
**Kağıt geri açıldığında oluşan yeni şekil aşağıdakilerden hangisi olur?**

- A) B)   
C) D)

7.



Yukarıda verilen şekil aynı büyüklükteki küp bloklardan oluşmaktadır.

**Şekilde toplam kaç küp vardı?**

- A) 16 B) 17  
C) 18 D) 19