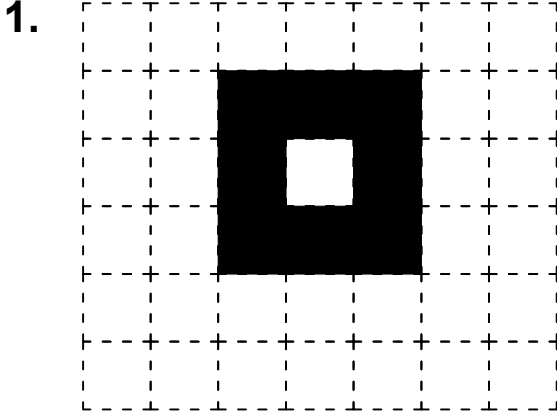
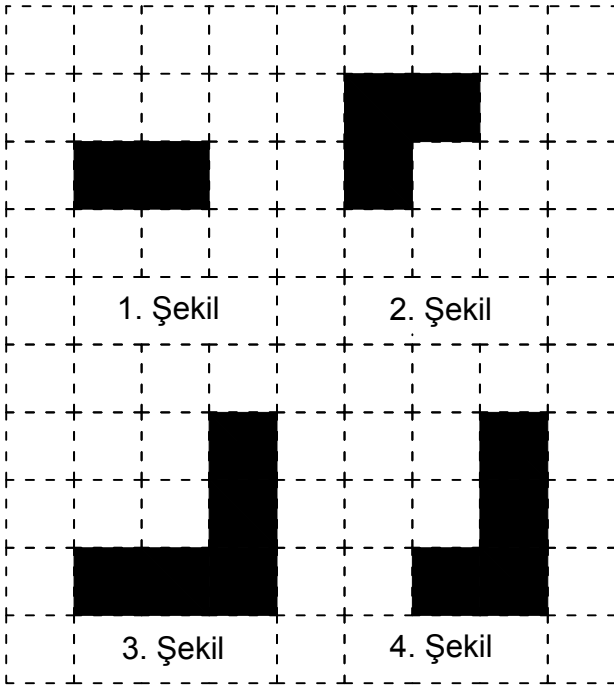




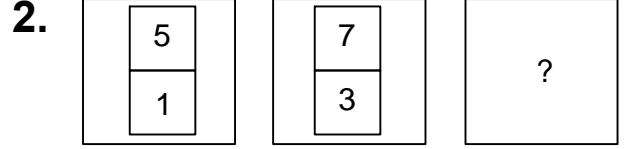
Test-8



Yukarıda verilen şekili oluşturabilmek için aşağıdaki şekillerden hangi ikisi tamamen kullanılmalıdır ?



- A) 1 ve 2 B) 1 ve 3
C) 2 ve 3 D) 2 ve 4

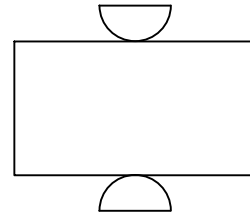


Yukarıda verilen şekiller bir kurala göre dizi oluşturmaktadır.

Buna göre "?" yerine hangi şekil gelmelidir?

- A) B)
- C) D)

3.



Yukarıda verilen şeklin kapalı durumu aşağıdakilerden hangisidir ?

- A) B) C) D)