




Ad : \_\_\_\_\_  
Soyad : \_\_\_\_\_  
Sınıf: \_\_\_\_\_ No: \_\_\_\_\_

### Test-7

13.




Aşağıdaki şekillerden hangisi yukarıda verilen şekil ile aynıdır ?

- A)
- B)
- C)
- D)


14. Aşağıdaki şekillerden hangisi diğerlerinden farklı bir özelliğe sahiptir ?

- A)
- B)
- C)
- D)


15.



1. Şekil



2. Şekil



3. Şekil



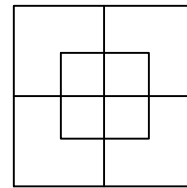
?

1. şekil ve 2. şekil arasında bir ilişki bulunmaktadır.

Benzer ilişki 3. şekil ile hangisi arasında vardır

- A)
- B)
- C)
- D)

16.



Yukarıda verilen şekilede kaç tane kare vardır?

- A) 9  
B) 11  
C) 10  
D) 12