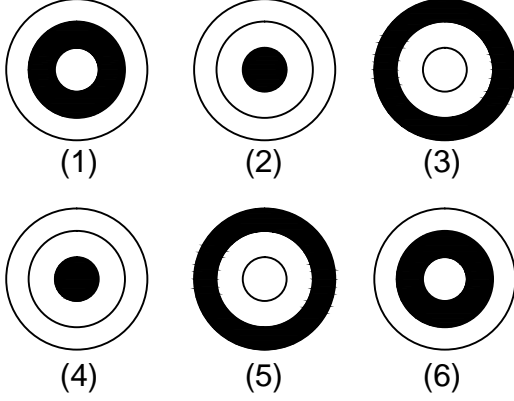




Test-7

Ad : _____
Soyad : _____
Sınıf: _____ No: _____


9.



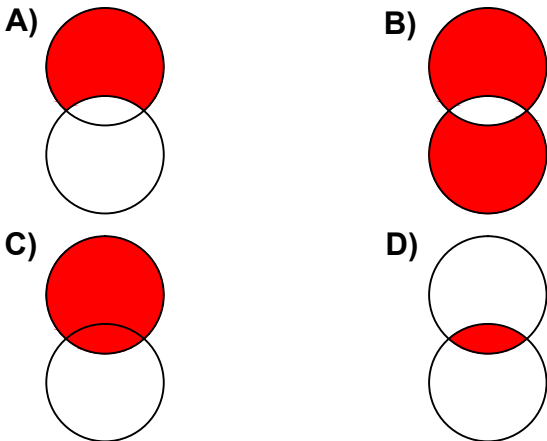
Yukarıda numaralanmış şekiller ortak özelliklerine göre gruplandırılırsa doğru eşleşme hangileri olur?

- A) 1,6 - 2,5 - 3,4
- B) 1,6 - 3,5 - 2,4
- C) 3,5 - 1,4 - 2,6
- D) 1,5 - 2,6 - 3,4

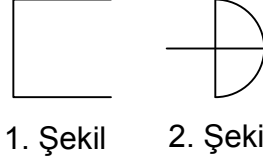
10.



Yukarıda örnek verilen şekile benzerlik gösteren şekil hangisidir?

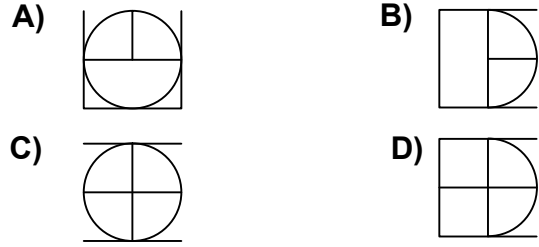


11.

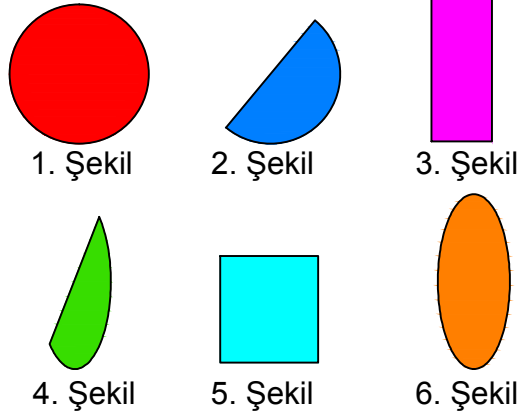


Yukarıda verilen şekiller üst üste getirilmektedir.

Oluşan yeni şekil aşağıdakilerden hangisi olabilir?



12.



Yukarıda verilen şekiller ikişerli olarak benzer özelliklere sahiptir.

Buna göre benzer özellik taşıyan şekiller aşağıdakilerden hangisinde doğru olarak gruplanmıştır?

- A) 2,4 - 1,5 - 3,6
- B) 1,6 - 2,4 - 3,5
- C) 2,4 - 1,1 - 3,6
- D) 2,6 - 1,5 - 3,4