



Ad : \_\_\_\_\_  
Soyad : \_\_\_\_\_  
Sınıf: \_\_\_\_\_ No: \_\_\_\_\_

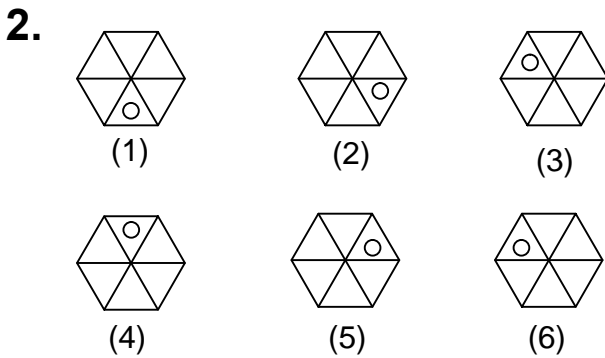
## Test-7



Yukarıda verilen şekiller bir kurala göre sonlu bir şekil dizisi oluşturmaktadır.

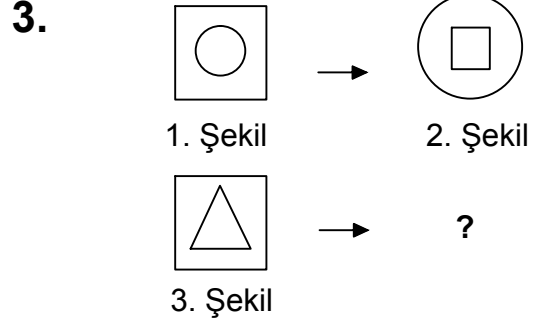
Buna göre "?" yerine hangi seçenekteki şekil getirilmelidir?

- A) B)
- C) D)



Yukarıda numaralanmış şekillerin sonlu bir dizi oluşturmaları için hangi ikisi yer değiştirilmelidir?

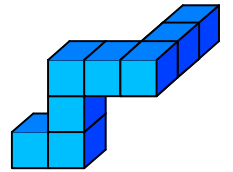
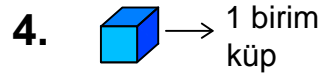
- A) 2 - 4 B) 3 - 4  
C) 3 - 5 D) 4 - 6



1. şekil ve 2. şekil arasında bir ilişki bulunmaktadır.

Benzer ilişki 3. şekil ile hangisi arasında vardır

- A) B)
- C) D)



Yukarıda verilen şekil aynı büyüklükteki küp bloklardan oluşmaktadır.

Şekilde toplam kaç küp vardı?

- A) 8 B) 10  
C) 9 D) 11