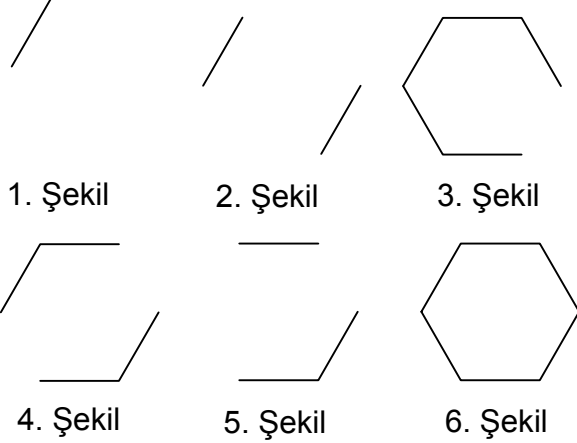




Test-6

9.

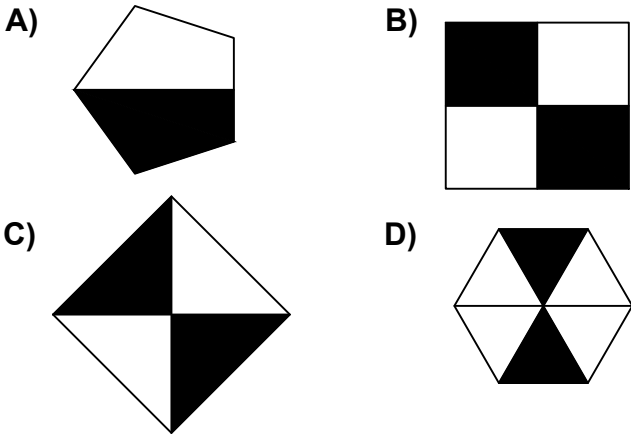


Yukarıda verilen dizi 1. şekil başlangıç olmak üzere belli bir sıraya göre dizilmiştir.

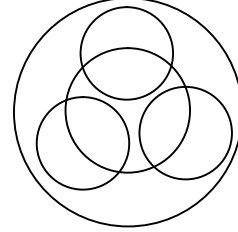
Buna göre dizinin bozulmaması için hangi iki şekil yer değiştirmelidir ?

- A) 2 - 5 B) 3 - 5
C) 2 - 4 D) 3 - 4

10. Aşağıdaki şekillerden hangisi diğerlerinden farklı bir özelliğe sahiptir ?



11.



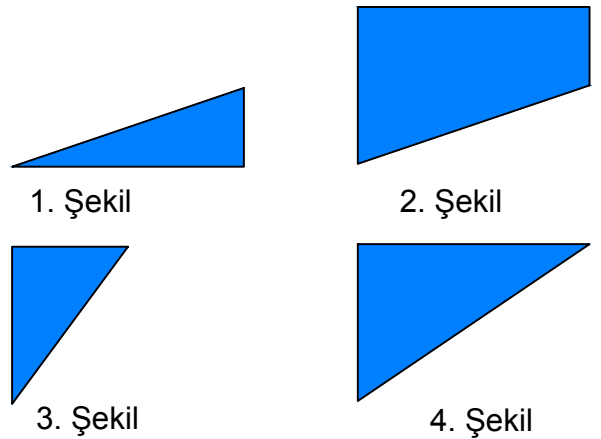
Yukarıda verilen şekilede kaç tane daire vardır?

- A) 4 B) 6
C) 5 D) 7

12.



Yukarıda verilen şekili elde edebilmek için aşağıdaki şekillerden hangi ikisi birleştirilmelidir?



- A) 1 ve 2 B) 3 ve 2
C) 1 ve 3 D) 3 ve 4