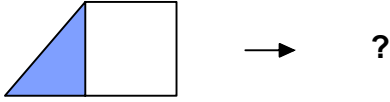




## Test-6

- 1.
- 5
- 8
- 7

Yukarıdaki şekil - sayı eşleşmesine göre



eşleşmesinde " ? " yerine hangisi getirilmelidir?

- A) 4                      B) 7  
C) 5                      D) 6

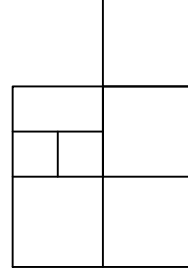
2. → 1 birim küp
- 

Yukarıda verilen şekil aynı büyüklükteki küp bloklardan oluşmaktadır.

Şekilde toplam kaç küp vardı?

- A) 9                      B) 10  
C) 11                    D) 12

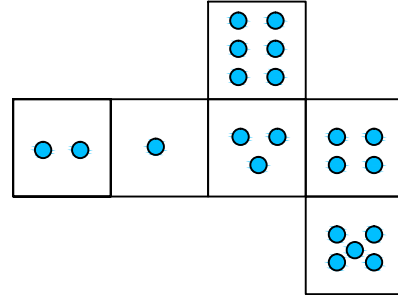
3.



Yukarıda verilen şekilede kaç tane kare vardır?

- A) 8                      B) 9  
C) 10                    D) 11

4.



Yukarıda verilen şekil kapatıldığında bir küp oluşmaktadır.

Bu küp aşağıdakilerden hangisi olabilir?

- A)
- B)
- C)
- D)