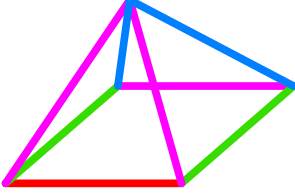


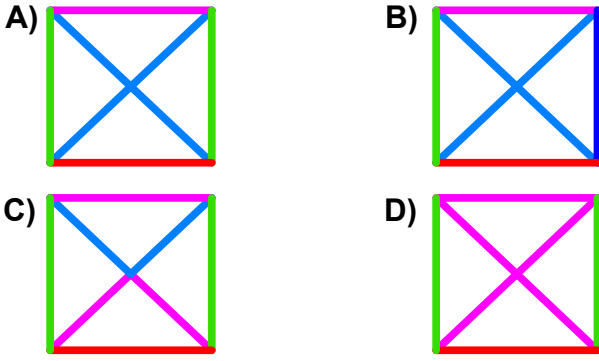


Test-5

1.

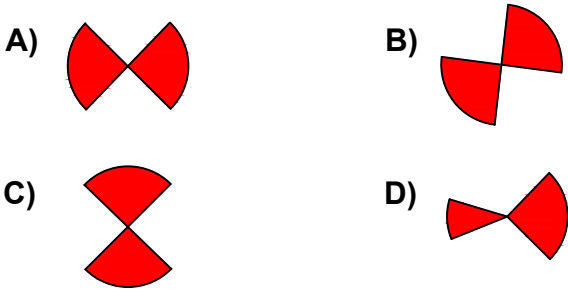


Yukarıda üç boyutlu bir geometrik cismin resmi gözükmemektedir.
Bu şeklin yukarıdan görünüşü aşağıdaki şekillerden hangisidir?

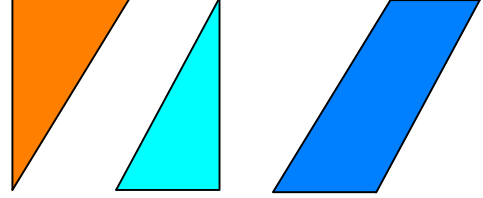


2. Aşağıdaki şekillerde verilen şekillerden biri diğerlerinden farklıdır.

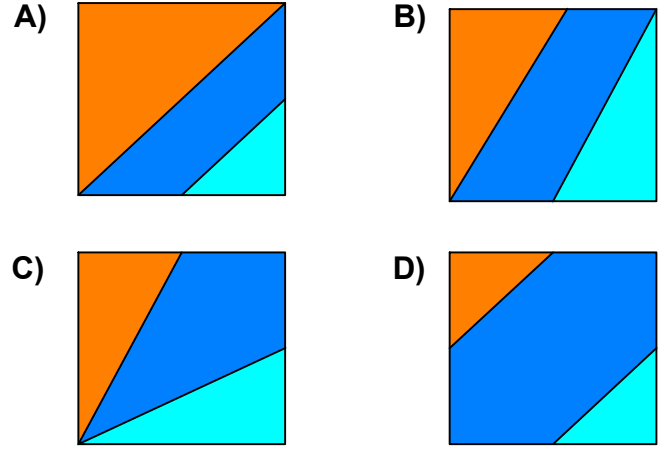
Farklı olan şekil hangisidir?




3.



Yukarıda verilen parçalar ile aşağıdaki şekillerden hangisi oluşturulabilir ?



4.



Yukarıdaki şekil aşağıdaki şekillerden hangisi ile birleşirse bir dörtgen oluşur ?

