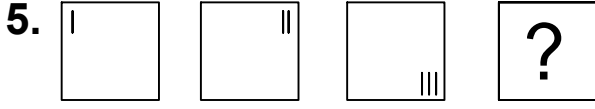




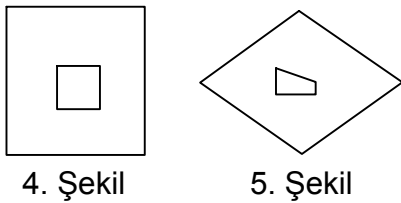
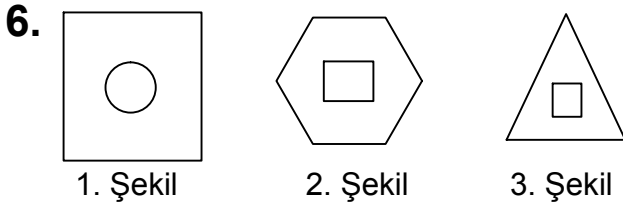
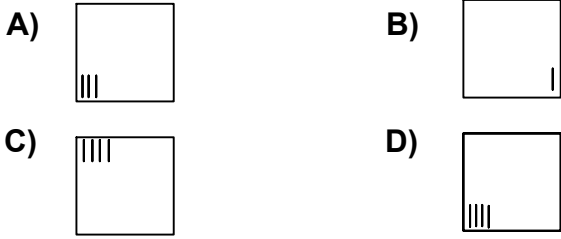
Ad : _____
Soyad : _____
Sınıf: _____ No: _____

Test-4



Yukarıda verilen şekiller bir kurala göre sonlu bir şekil dizisi oluşturmaktadır.

Buna göre "?" yerine hangi seçenekteki şekil getirilmelidir?

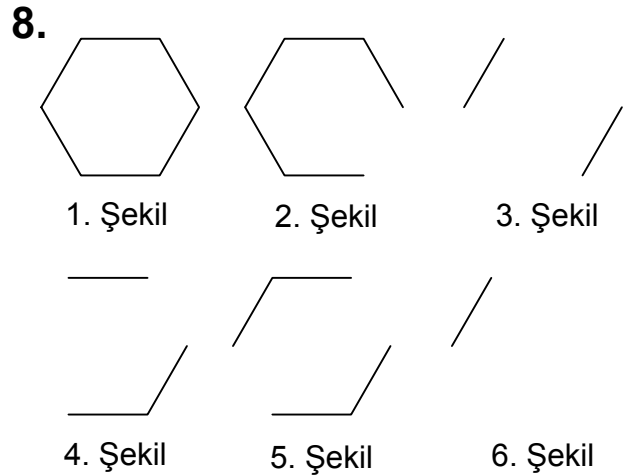
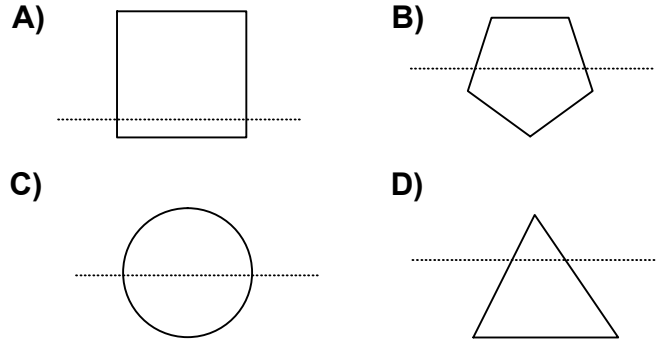


Yukarıda verilen şekillerden iki tanesi benzer özelliklere sahiptir.

Buna göre benzer özelliklere sahip olan şekiller aşağıdakilerden hangisinde doğru olarak verilmiştir?

- A) 4 ve 5 B) 1 ve 5
C) 1 ve 3 D) 3 ve 2

7. Aşağıdaki seçeneklerde verilen şekiller çizgi boyunca katlandığında üst üste gelen (çakışan) şekil hangisidir.



Yukarıda verilen dizi 1. şekil başlangıç olmak üzere belli bir sıraya göre dizilmiştir.

Buna göre dizinin bozulmaması için hangi iki şekil yer değiştirmelidir ?

- A) 2 - 5 B) 2 - 4
C) 3 - 5 D) 3 - 4