



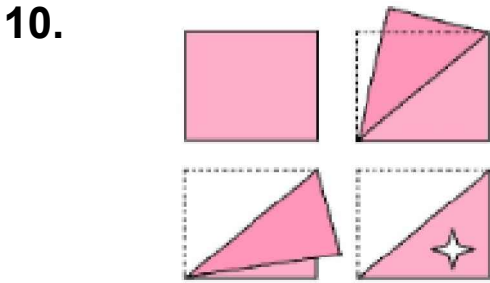
Test-36



Yukarıda verilen şekiller bir kurala göre sonlu bir şekil dizisi oluşturmaktadır.

Buna göre "?" yerine hangi seçenekteki şekil getirilmelidir?

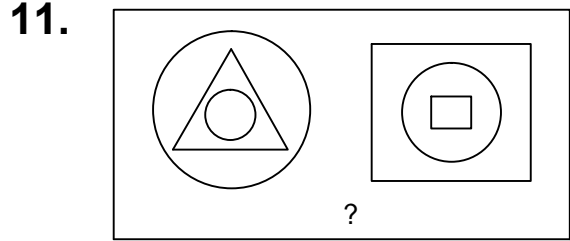
- A) B)
- C) D)



Kağıt yukarıdaki şekildeki gibi katlanıp bir delik çalıyor.

Kağıt geri açıldığında oluşan yeni şekil aşağıdakilerden hangisi olur?

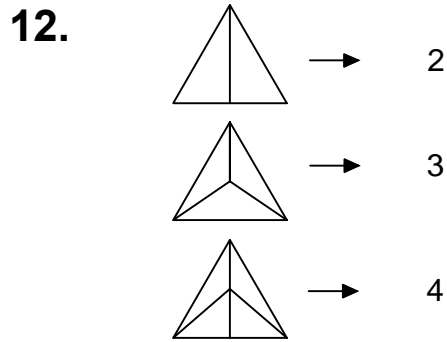
- A) B)
- C) D)



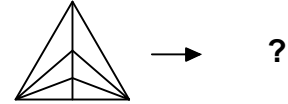
Yukarıdaki şekil grubunda ortak bir özellik vardır.

Bu özellik aşağıdakilerden hangisinde vardır?

- A) B)
- C) D)



Yukarıdaki şekil - sayı eşleşmesine göre



eşleşmesinde " ? " yerine hangisi getirilmelidir?

- A) 6 B) 7
C) 8 D) 9