


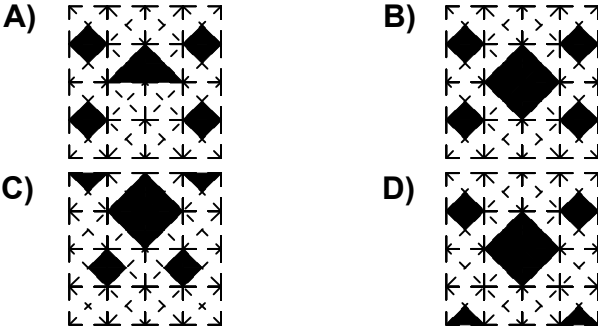


Test-36

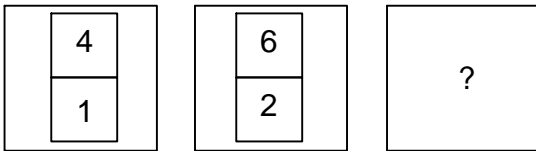
5.



Aşağıdaki şekillerden hangisi yukarıda verilen şekil ile aynıdır ?

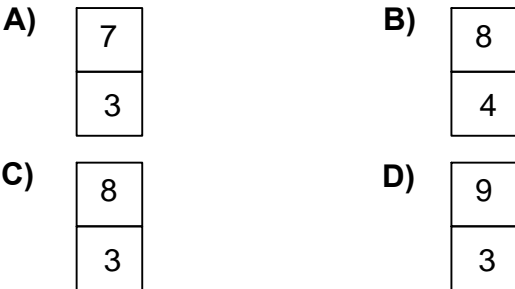


6.

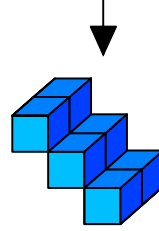


Yukarıda verilen şekiller bir kurala göre dizi oluşturmaktadır.

Buna göre "?" yerine hangi şekil gelmelidir ?




7.




Yukarıda eş birim küplerden oluşan bir şekil görülmektedir.

Bu şeklin yukarıdan görünüşü aşağıdakilerden hangisidir.



8.



Yukarıdaki şekiller soldan sağa belli bir kurala göre dizilmiştir.

Buna göre "?" olan kutucuğa aşağıdakilerden hangisi gelmelidir ?

