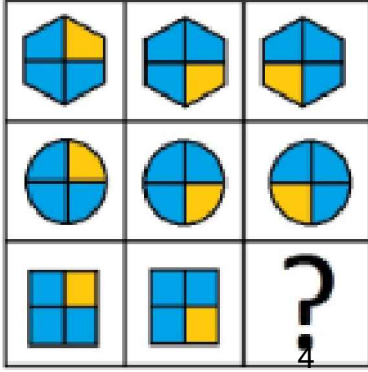




Ad : _____
Soyad : _____
Sınıf: _____ No: _____

Test-35

1.

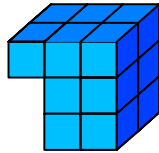
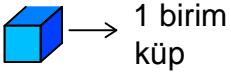


Yukarıdaki şekiller soldan sağa belli bir kurala göre dizilmiştir.

Buna göre "?" olan kutucuğa aşağıdakilerden hangisi gelmelidir ?

- A) B)
- C) D)

2.



Yukarıda verilen şekil aynı büyüklükteki küp bloklardan oluşmaktadır.

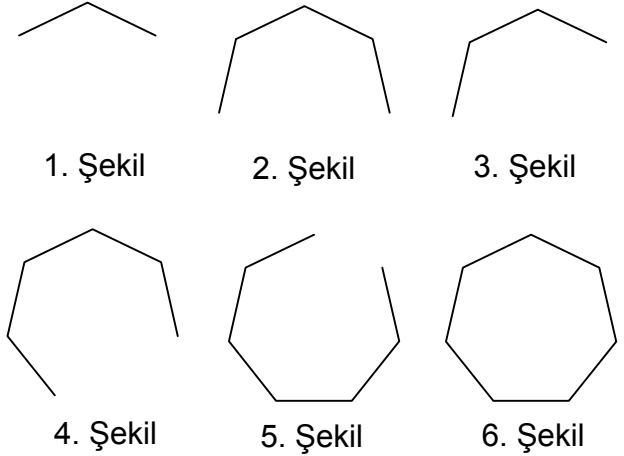
Şekilde toplam kaç küp vardı?

- A) 14 B) 13
C) 15 D) 16

3. Aşağıdaki şekillerden hangisi diğerlerinden farklıdır ?

- A)
- B)
- C)
- D)

4.



Yukarıda verilen dizi 1. şekil başlangıç olmak üzere belli bir sıraya göre dizilmiştir.

Buna göre dizinin bozulmaması için hangi iki şekil yer değiştirmelidir ?

- A) 2 - 5 B) 3 - 5
C) 2 - 3 D) 3 - 4