


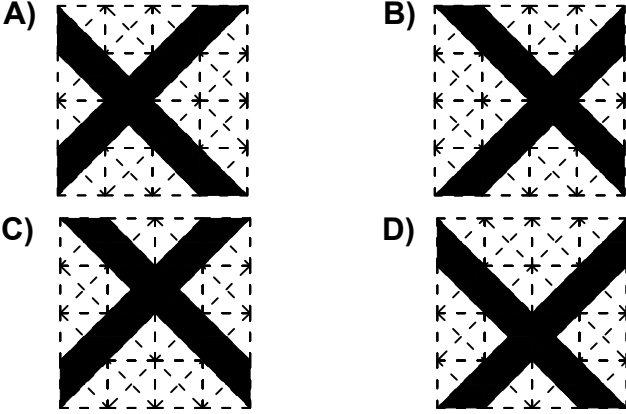


Test-34

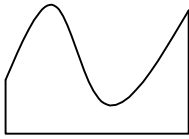
13.



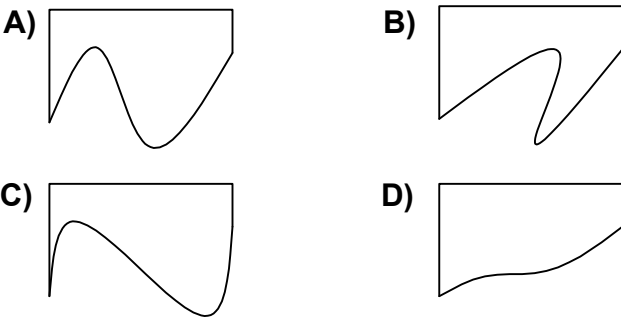
Aşağıdaki şekillerden hangisi yukarıda verilen şekil ile aynıdır ?



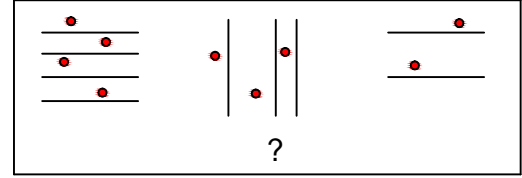
14.



Yukarıdaki şekil aşağıdaki şekillerden hangisi ile birleşirse bir kare oluşur ?

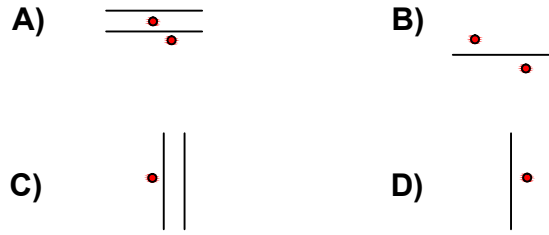


15.



Yukarıdaki şekil grubu ortak bir özelliğe göre sıralanmıştır.

Buna göre "?" olan kısma aşağıdaki şekillerden hangisi gelmelidir?



16. Aşağıdakilerden hangisinde 1. şekil'in aynadan yansıması 2. şekilde yanlış verilmiştir.?

