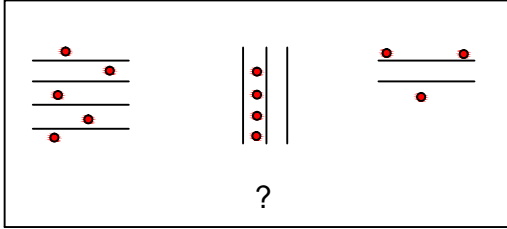




Test-34

9.

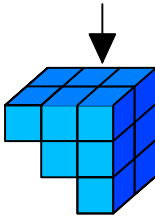


Yukarıdaki şekil grubu ortak bir özelliğe göre sıralanmıştır.

Buna göre "?" olan kısma aşağıdaki şekillerden hangisi gelmelidir?



- A)  B) 
- C)  D) 

10.

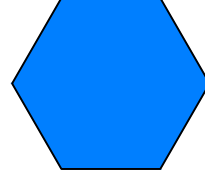


Yukarıda eş birm küplerden oluşan bir şekil görülmektedir.

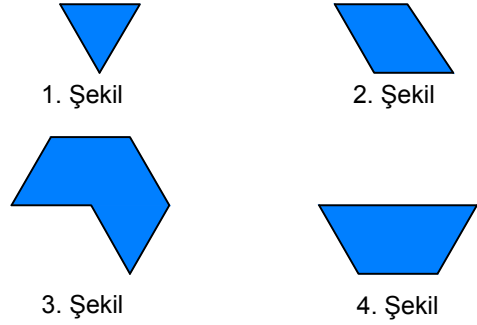
Bu şeklin yukarıdan görünüşü aşağıdakilerden hangisidir.

- A)  B) 
- C)  D) 

11.

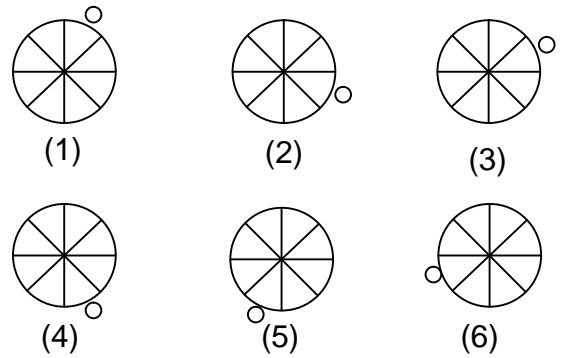


Yukarıda verilen şekili elde edebilmek için aşağıdaki şekillerden hangi ikisi birleştirilmelidir?



- A) 1 ve 2 B) 3 ve 2
C) 1 ve 3 D) 3 ve 4

12.



Yukarıda numaralanmış şekillerin sonlu bir dizi oluşturmaları için hangi ikisi yer değiştirilmelidir?

- A) 2 - 4 B) 3 - 4
C) 2 - 3 D) 4 - 6