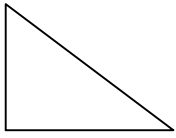

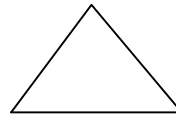
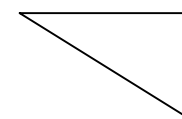





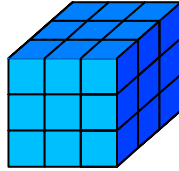
Test-34

5. Aşağıdaki şekillerde verilen şekillerden biri diğerlerinden farklıdır.

Farklı olan şekil hangisidir?

- A)  B) 
- C)  D) 

6.  → 1 birim küp




Yukarıda verilen şekil aynı büyüklükteki küp bloklardan oluşmaktadır.





Şekilde toplam kaç küp vardı?

- A) 26 B) 27
C) 29 D) 30

7.



Yukarıdaki şekiller soldan sağa belli bir kurala göre dizilmiştir.
Buna göre "?" olan kutucuğa aşağıdakilerden hangisi gelmelidir ?

- A)  B) 
- C)  D) 

8.



Yukarıda verilen dizi bir sıraya göre dizilmiştir.

Buna göre "?" yerine aşağıdakilerden hangisi gelmelidir?

- A)  B) 
- C)  D) 