




Ad : _____
Soyad : _____
Sınıf : _____ No : _____

Test-34

1.



Yukarıdaki şekiller soldan sağa belli bir kurala göre dizilmiştir.

Buna göre "?" olan kutucuğa aşağıdakilerden hangisi gelmelidir ?

A)



B)



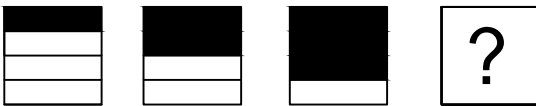
C)



D)



2.




Yukarıda verilen şekiller bir kurala göre sonlu bir şekil dizisi oluşturmaktadır.

Buna göre "?" yerine hangi seçenekteki şekil getirilmelidir?


A)




B)



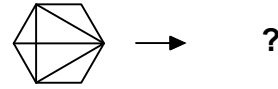
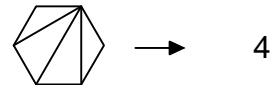
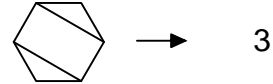
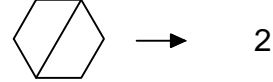
C)



D)



3.



Yukarıdaki şekil - sayı eşleşmesine göre

eşleşmesinde "?" yerine hangisi getirilmelidir?

A) 3

B) 4


C) 5

D) 6

4.



1. Şekil



2. Şekil



3. Şekil



4. Şekil

Yukarıda verilen dizi 1. şekil başlangıç olmak üzere belli bir sıraya göre dizilmiştir.

Buna göre dizinin bozulmaması için hangi iki şekil yer değiştirmelidir ?

A) 3 - 4

B) 3 - 5

C) 2 - 4

D) 1 - 4