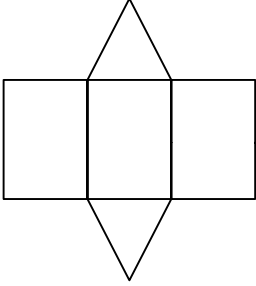




### Test-33

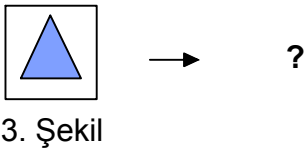
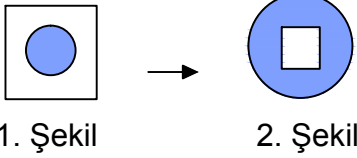
13.



Yukarıda verilen şeklin kapalı durumu aşağıdakilerden hangisidir ?

- A) B)
- C) D)

14.

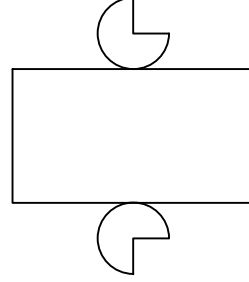


1. şekil ve 2. şekil arasında bir ilişki bulunmaktadır.

**Benzer ilişki 3. şekil ile hangisi arasında vardır**

- A) B)
- C) D)

15.



Yukarıda verilen şeklin kapalı durumu aşağıdakilerden hangisidir ?

- A) B)
- C) D)

16. Aşağıdakilerden hangisinde 1. şekil'in aynadan yansıması 2. şekilde yanlış verilmiştir.?

- A)
- B)
- C)
- D)