



Test-33


9.




1. Şekil




2. Şekil




3. Şekil



4. Şekil



5. Şekil



6. Şekil

Yukarıda verilen şekiller ikişerli olarak benzer özelliklere sahiptir.

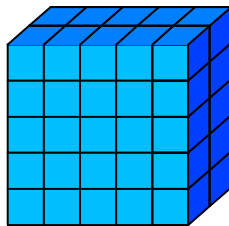
Buna göre benzer özellik taşıyan şekiller aşağıdakilerden hangisinde doğru olarak gruplanmıştır?

- A) 2,6 - 1,4 - 3,5
B) 1,6 - 2,4 - 3,5
C) 2,4 - 1,1 - 3,6
D) 2,6 - 1,5 - 3,4

10.



1 birim
küp

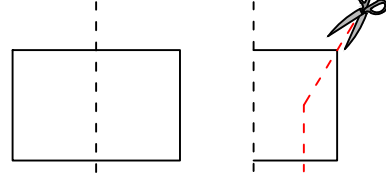


Yukarıda verilen şekil aynı büyüklükteki küp bloklardan oluşmaktadır.

Şekilde toplam kaç küp vardı?

- A) 40
B) 50
C) 55
D) 60

11.



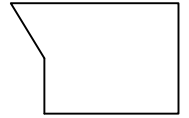
Şekil-1'deki kağıt Şekil-2'deki gibi katlanıp kesikli çizgilerle gösterilen yerlerinden kesiliyor.

Kağıt katlandığı yerden tekrar açıldığında aşağıdaki şekillerden hangisi meydana gelir ?

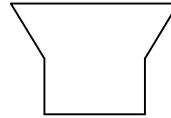
A)



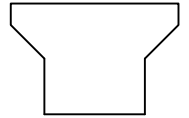
B)



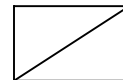
C)



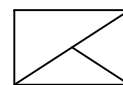
D)



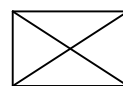
12.



2




3



4

Yukarıdaki şekil - sayı eşleşmesine göre



?

eşleşmesinde " ? " yerine hangisi getirilmelidir?

- A) 4
C) 7

- B) 5
D) 6