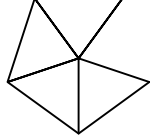




Test-33

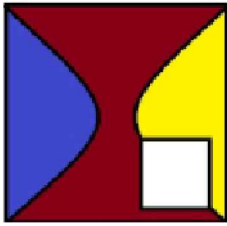
1.



Yukarıda verilen şeklin oluşması için gerekli parçalar hangi seçenekte verilmiştir?

- A)
- B)
- C)
- D)

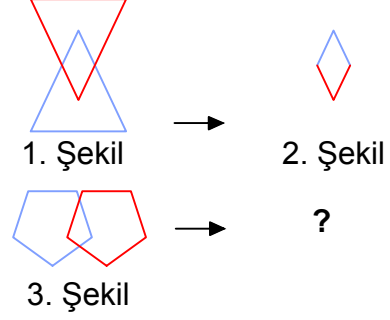
2.



Yukarıdaki resmin bir parçası çıkarılmıştır. Çıkarılan parça aşağıdakilerden hangisidir?

- A)
- B)
- C)
- D)

3.

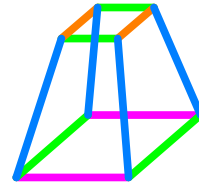


1. şekil ve 2. şekil arasında bir ilişki bulunmaktadır.

Benzer ilişki 3. şekil ile hangisi arasında vardır

- A)
- B)
- C)
- D)

4.



Yukarıda üç boyutlu bir geometrik cismin resmi gözükmemektedir.

Bu şeklin yukarıdan görünüşü aşağıdaki şekillerden hangisidir?

- A)
- B)
- C)
- D)