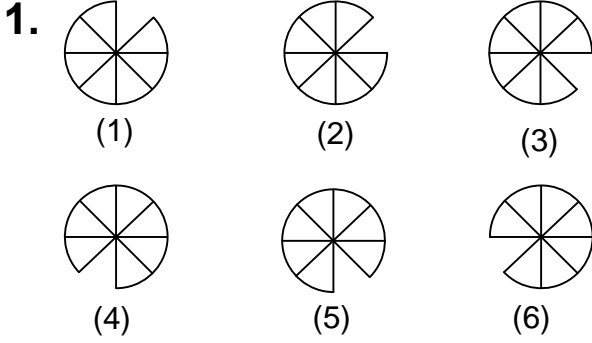




Test-31



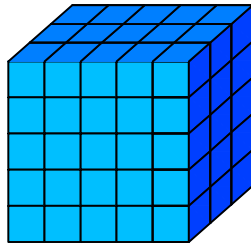
Yukarıda numaralanmış şekillerin sonlu bir dizi oluşturmaları için hangi ikisi yer değiştirilmelidir?

- A) 2 - 4 B) 3 - 5
C) 4 - 6 D) 4 - 5

2.



1 birim
küp

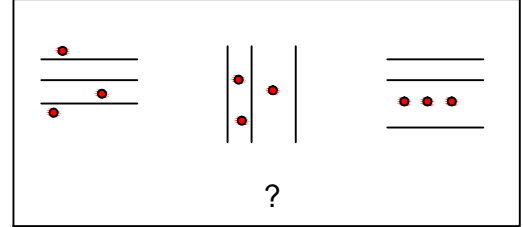


Yukarıda verilen şekil aynı büyüklükteki küp bloklardan oluşmaktadır.

Şekilde toplam kaç küp vardı?

- A) 60 B) 70
C) 75 D) 90

3.

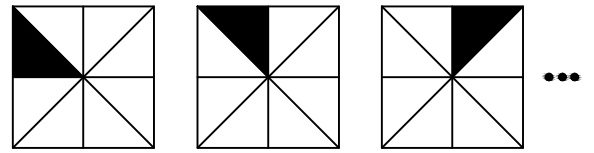


Yukarıdaki şekil grubunda ortak bir özellik vardır.

Bu özellik aşağıdakilerden hangisinde vardır?

- A) B)
C) D)

4.



1. Şekil

2. Şekil

3. Şekil

Yukarıda verilen şekil dizisi belli bir kurala göre sıralanmıştır.

Bu kurala göre birinci şekil kaçınıcı şekilde yenilir?

- A) 9 B) 8
C) 7 D) 6