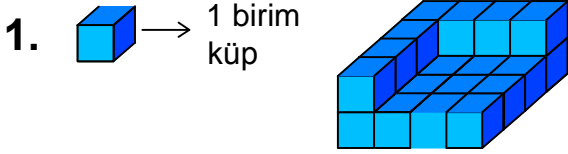




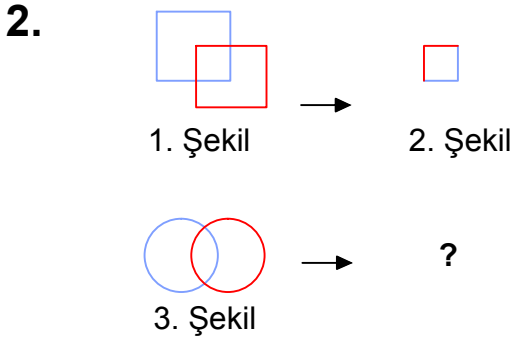
Test-30



Yukarıda verilen şekil aynı büyüklükteki küp bloklardan oluşmaktadır.

Şekilde toplam kaç küp vardı?

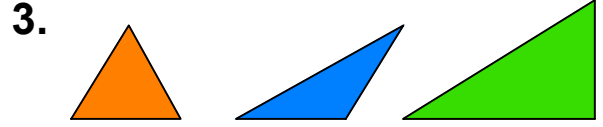
- A) 23 B) 24
C) 25 D) 26



1. şekil ve 2. şekil arasında bir ilişki bulunmaktadır.


Benzer ilişki 3. şekil ile hangisi arasında vardır

- A) B)
C) D)



Yukarıda verilen parçalar ile aşağıdaki şekillerden hangisi oluşturulabilir ?

- A) B)
C) D)



Yukarıdaki şekil aşağıdaki şekillerden hangisi ile birleşirse bir daire oluşur ?

- A) B)
C) D)