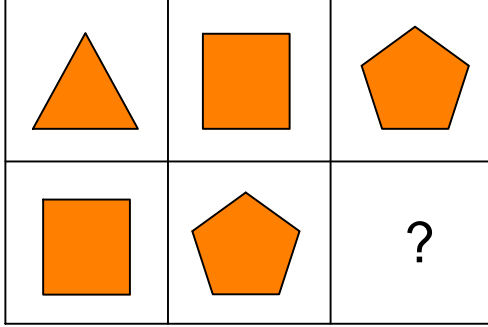




Ad : _____
Soyad : _____
Sınıf: _____ No: _____

Test-3

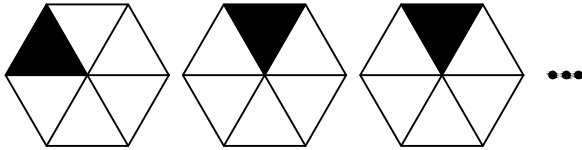
11.



Yukarıda verilen şekiller soldan sağa belli bir kurala göre sıralanmıştır.
Buna göre "?" kutucuğa aşağıdakilerden hangisi gelmelidir?

- A)
- B)
- C)
- D)

12.

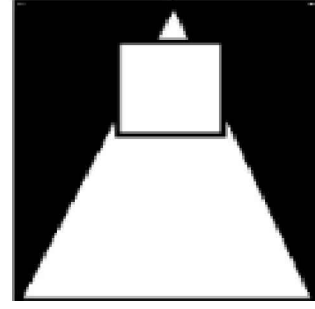


1. Şekil 2. Şekil 3. Şekil

Yukarıda verilen şekil dizisi belli bir kurala göre sıralanmıştır.
Bu kurala göre birinci şekil kaçınıcı şekilde yenilenir?

- A) 6 B) 7
C) 8 D) 9

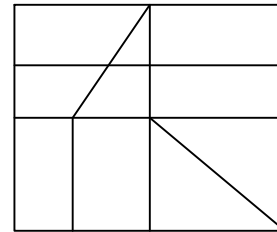
13.



Yukarıdaki resmin bir parçası çıkarılmıştır.
Çıkarılan parça aşağıdakilerden hangisidir?

- A)
- B)
- C)
- D)

14.



Yukarıdaki şekil bir çok küçük şeklin bir araya gelmesi ile oluşmuştur.

Aşağıdaki şekillerden hangisi yukarıdaki şekilde yoktur ?

- A)
- B)
- C)
- D)