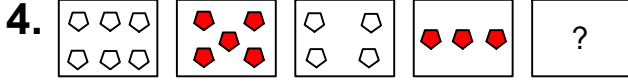




Ad : \_\_\_\_\_  
Soyad : \_\_\_\_\_  
Sınıf: \_\_\_\_\_ No: \_\_\_\_\_

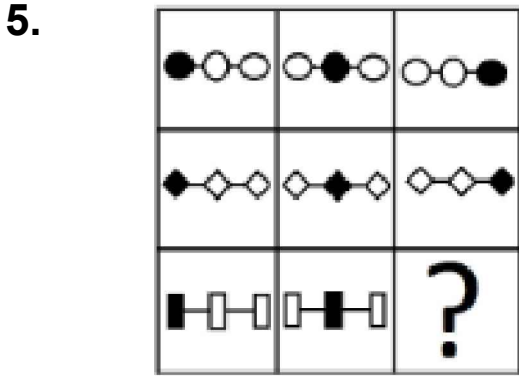
### Test-3



Yukarıda verilen dizi bir sıraya göre dizilmiştir.

Buna göre "?" yerine aşağıdakilerden hangisi gelmelidir?

- A)
- B)
- C)
- D)

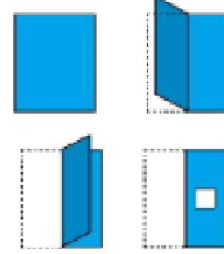


Yukarıdaki şekiller soldan sağa belli bir kurala göre dizilmiştir.

Buna göre "?" olan kutucuğa aşağıdakilerden hangisi gelmelidir ?

- A)
- B)
- C)
- D)

6.

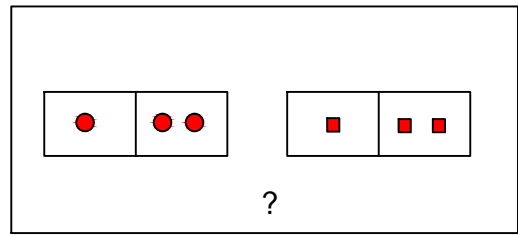


Kağıt yukarıdaki şekildeki gibi katlanıp bir delik çalıyor.

Kağıt geri açıldığında oluşan yeni şekil aşağıdakilerden hangisi olur?

- A)
- B)
- C)
- D)

7.



Yukarıdaki şekil grubunda ortak bir özellik vardır.

Bu özellik aşağıdakilerden hangisinde vardır?

- A)
- B)
- C)
- D)