







Ad : _____
Soyad : _____
Sınıf: _____ No: _____

Test-3

1. Aşağıdaki şekillerde verilen şekillerden biri diğerlerinden farklıdır.


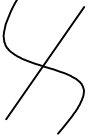
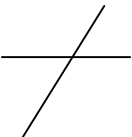

Farklı olan şekil hangisidir?

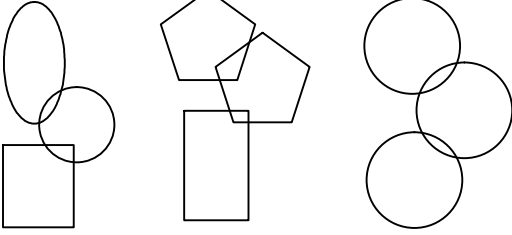
- A)  B) 
- C)  D) 

2. 

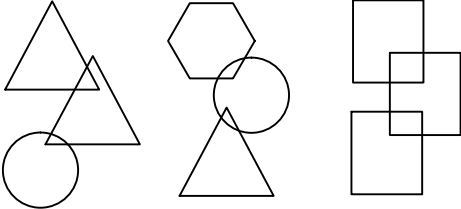
Yukarıdaki şekiller arasında ortak bir özellik vardır.

Bu ortak özellik aşağıdakilerden hangisinde mevcuttur ?

- A)  B) 
- C)  D) 

3. 

1. Şekil 2. Şekil 3. Şekil



4. Şekil 5. Şekil 6. Şekil

Yukarıda verilen şekiller ikiye ayrılarak benzer özelliklere sahiptir.

Buna göre benzer özellik taşıyan şekiller aşağıdakilerden hangisinde doğru olarak gruplanmıştır?

- A) 2,4 - 1,5 - 3,6
B) 1,4 - 2,5 - 3,6
C) 2,4 - 1,1 - 3,6
D) 2,6 - 1,5 - 3,4