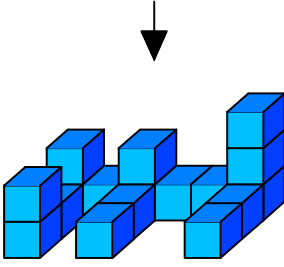




Ad : \_\_\_\_\_  
Soyad : \_\_\_\_\_  
Sınıf: \_\_\_\_\_ No: \_\_\_\_\_

## Test-29

11.

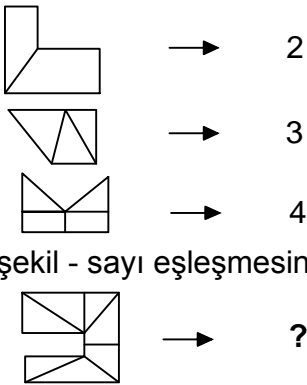


Yukarıda eş birim küplerden oluşan bir şekil görülmektedir.

**Bu şeklin yukarıdan görünüşü aşağıdakilerden hangisidir.**

- A)
- B)
- C)
- D)

12.

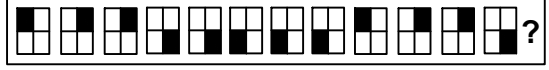


Yukarıdaki şekil - sayı eşleşmesine göre

**eşleşmesinde " ? " yerine hangisi getirilmelidir?**

- A) 4 B) 6  
C) 5 D) 7

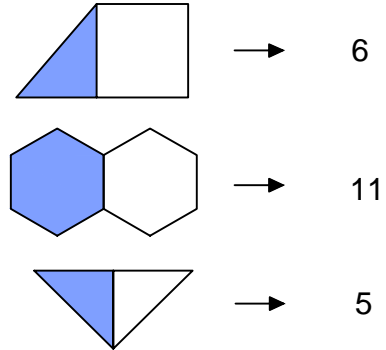
13.



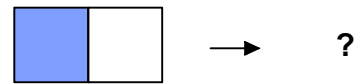
Yukarıda verilen dizi bir sıraya göre dizilmiştir.  
**Buna göre "?" yerine hangi şekil gelmelidir?**

- A)
- B)
- C)
- D)

14.



Yukarıdaki şekil - sayı eşleşmesine göre



**eşleşmesinde " ? " yerine hangisi getirilmelidir?**

- A) 5 B) 6  
C) 7 D) 8