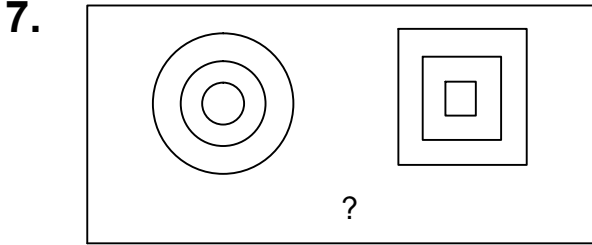




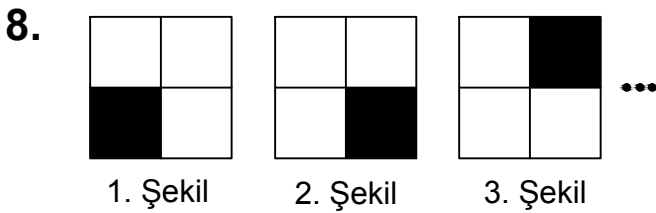
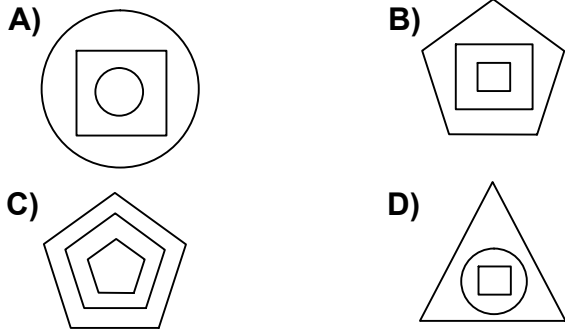
Ad : _____
Soyad : _____
Sınıf: _____ No: _____

Test-29



Yukarıdaki şekil grubunda ortak bir özellik vardır.

Bu özellik aşağıdakilerden hangisinde vardır?



1. Şekil

2. Şekil

3. Şekil

Yukarıda verilen şekil dizisi belli bir kurala göre sıralanmıştır.

Bu kurala göre birinci şekil kaçınıcı şekilde yenilenir?

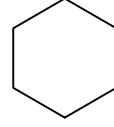
A) 4

B) 3

C) 2

D) 1

9.



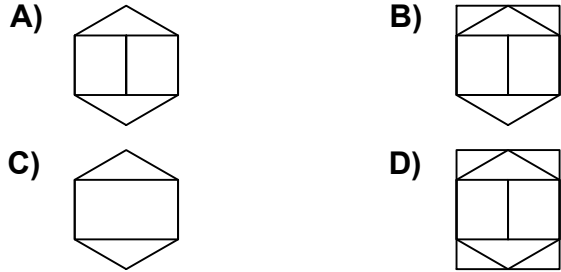
1. Şekil




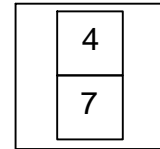
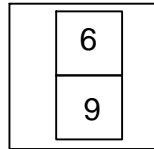
2. Şekil

Yukarıda verilen şekiller üst üste getirilmektedir.

Oluşan yeni şekil aşağıdakilerden hangisi olabilir?



10.



Yukarıda verilen şekiller bir kurala göre dizi oluşturmaktadır.

Buna göre "?" yerine hangi şekil gelmelidir?

