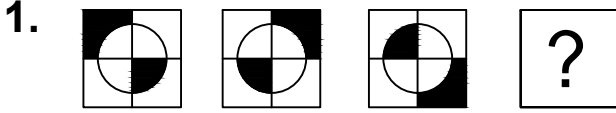


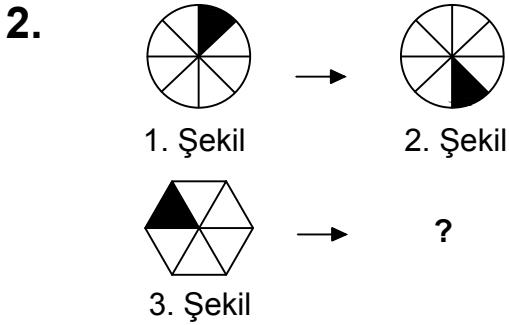
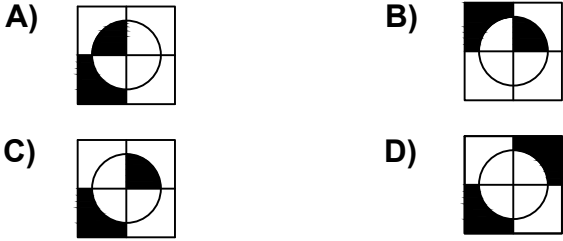


Test-29



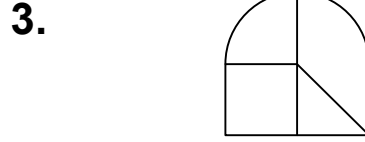

Yukarıda verilen şekiller bir kurala göre sonlu bir şekil dizisi oluşturmaktadır.

Buna göre "?" yerine hangi seçenekteki şekil getirilmelidir?

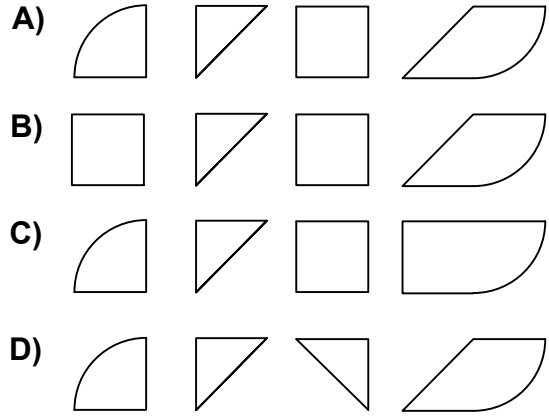


1. şekil ve 2. şekil arasında bir ilişki bulunmaktadır.

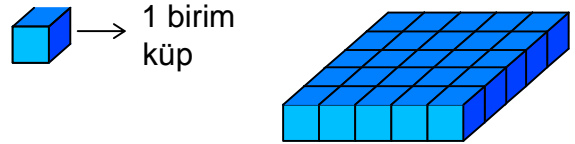
Benzer ilişki 3. şekil ile hangisi arasında vardır



Yukarıda verilen şeklin oluşması için gerekli parçalar hangi seçenekte verilmiştir?



4.



Yukarıda verilen şekil aynı büyüklükteki küp bloklardan oluşmaktadır.

Şekilde toplam kaç küp vardı?

- A) 25 B) 27
C) 30 D) 20