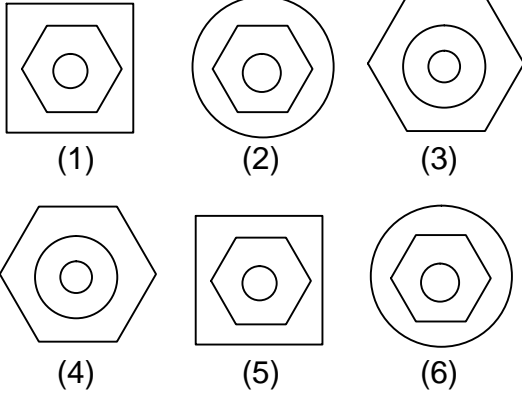




Test-28

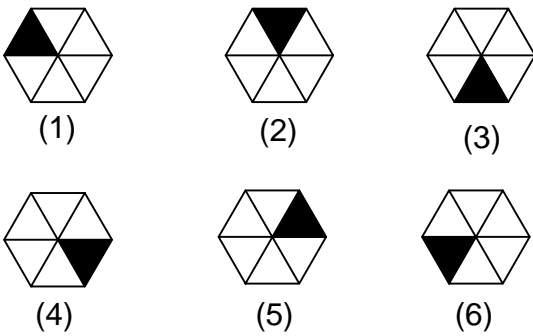
1.



Yukarıda numaralanmış şekiller ortak özelliklerine göre gruplandırılırsa doğru eşleşme hangileri olur?

- A) 1,6 - 2,5 - 3,4
B) 1,6 - 3,5 - 2,4
C) 3,5 - 1,4 - 2,6
D) 1,5 - 2,6 - 3,4

2.

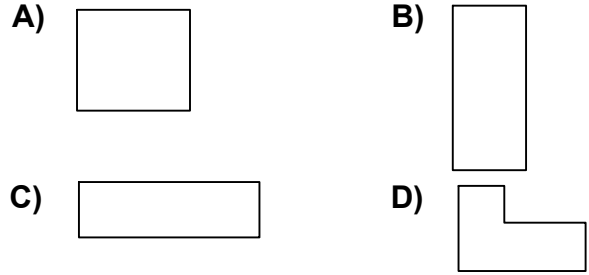


Yukarıda numaralanmış şekillerin sonlu bir dizi oluşturmaları için hangi ikisi yer değiştirilmelidir?

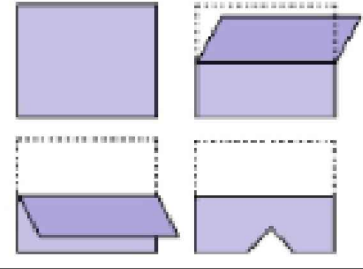
- A) 2 - 4
B) 3 - 5
C) 3 - 4
D) 4 - 6

3. Aşağıdaki şekillerde verilen şekillerden biri diğerlerinden farklıdır.

Farklı olan şekil hangisidir?



4.



Kağıt yukarıdaki şekildeki gibi katlanıp bir delik çalıyor.
Kağıt geri açıldığında oluşan yeni şekil aşağıdakilerden hangisi olur?

