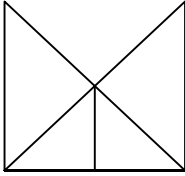




Ad : _____
Soyad : _____
Sınıf: _____ No: _____

Test-27

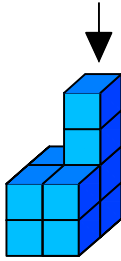
12.



Yukarıda verilen şekilede kaç tane üçgen vardır?





- A) 8
B) 4
C) 7
D) 6

13.




Yukarıda eş birim küplerden oluşan bir şekil görülmektedir.

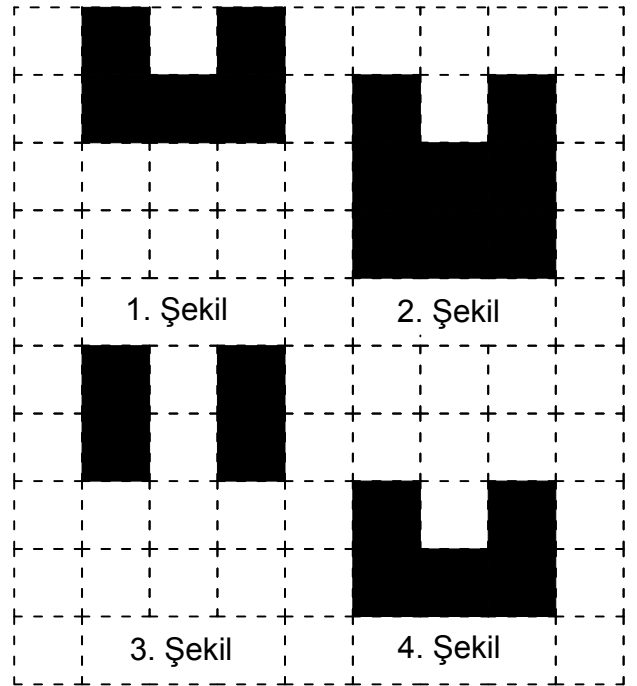
Bu şeklin yukarıdan görünüşü aşağıdakilerden hangisidir.

- A)  B) 
C)  D) 

14.



Yukarıda verilen şekili oluşturabilmek için aşağıdaki şekillerden hangi ikisi tamamen kullanılmalıdır ?



- A) 1 ve 2
B) 1 ve 3
C) 3 ve 4
D) 1 ve 4