

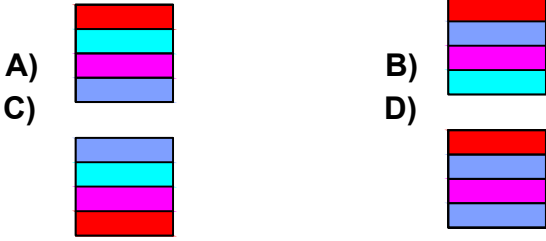


Test-27



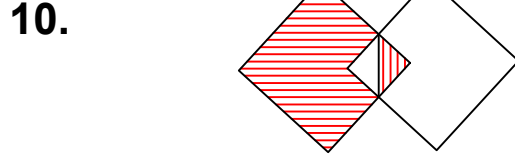
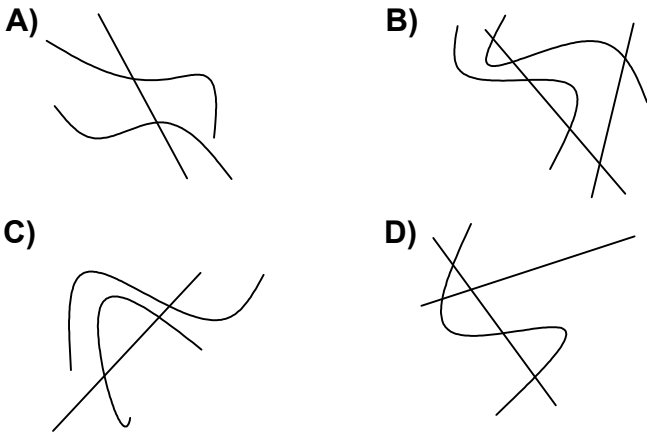
Yukarıda verilen şekiller bir kurala göre sonlu bir şekil dizisi oluşturmaktadır.

Buna göre "?" yerine hangi seçenekteki şekil getirilmelidir?

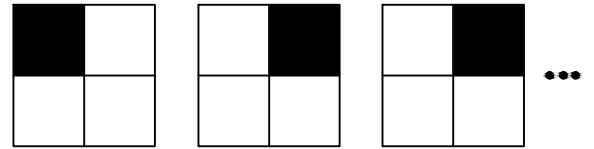
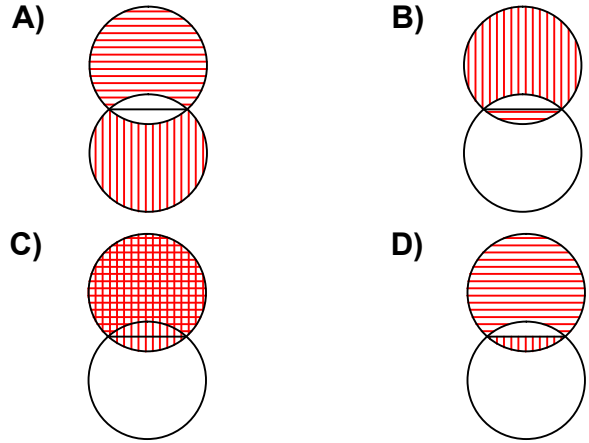


Yukarıdaki şekiller arasında ortak bir özellik vardır.

Bu ortak özellik aşağıdakilerden hangisinde mevcuttur ?



Yukarıda örnek verilen şekile benzerlik gösteren şekil hangisidir?



1. Şekil

2. Şekil

3. Şekil

Yukarıda verilen şekil dizisi belli bir kurala göre sıralanmıştır.

Bu kurala göre birinci şekil kaçınıcı şekilde yenilenir?

- A) 4 B) 6
C) 5 D) 7