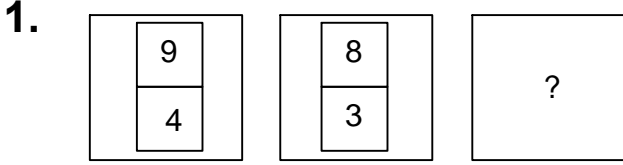




Ad : _____
Soyad : _____
Sınıf: _____ No: _____

Test-27



Yukarıda verilen şekiller bir kurala göre dizi oluşturmaktadır.

Buna göre "?" yerine hangi şekil gelmelidir?

- A)

7
2

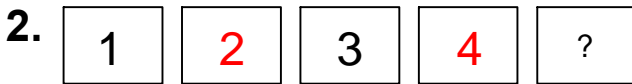
 B)

7
1
- C)

8
2

 D)

6
2



Yukarıda verilen dizi bir sıraya göre dizilmiştir.

Buna göre "?" yerine aşağıdakilerden hangisi gelmelidir?

- A)

5

 B)

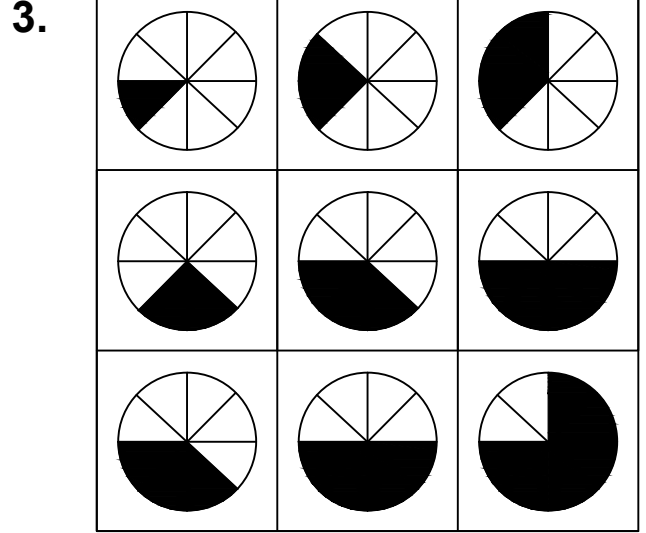
6

- C)

3

 D)

5



Her sıradaki şekiller belli bir kurala göre dizi oluşturmaktadır.

Buna göre kuralı bozan şekil aşağıdakilerden hangisinde verilmiştir?

- A)
- B)
- C)
- D)