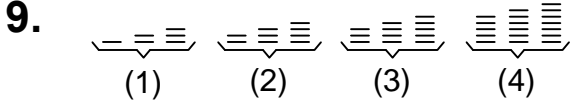




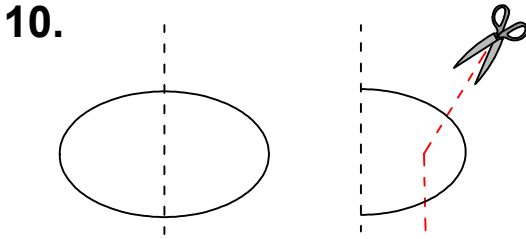
Ad : _____
Soyad : _____
Sınıf: _____ No: _____

Test-26



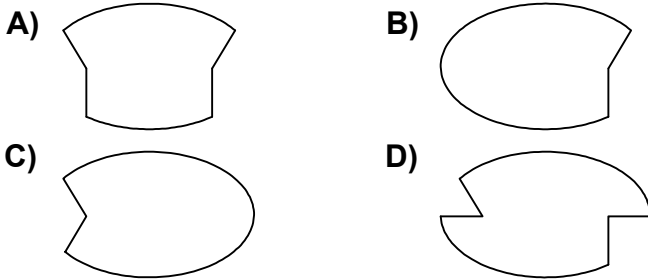
Yukarıda verilen dizi bir sıraya göre dizilmiştir.
Dizilerden sırayı bozan hangisidir?

- A) 1 B) 2
C) 3 D) 4

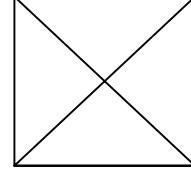


Şekil-1'deki kağıt Şekil-2'deki gibi katlanıp kesikli çizgilerle gösterilen yerlerinden kesiliyor.

Kağıt katlandığı yerden tekrar açıldığında aşağıdaki şekillerden hangisi meydana gelir ?



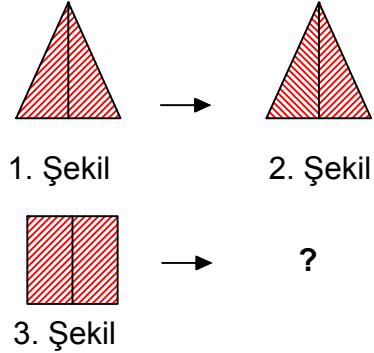
11.



Yukarıda verilen şekilede kaç tane üçgen vardır?

- A) 8 B) 6
C) 9 D) 7

12.



1. şekil ve 2. şekil arasında bir ilişki bulunmaktadır.

Benzer ilişki 3. şekil ile hangisi arasında vardır

