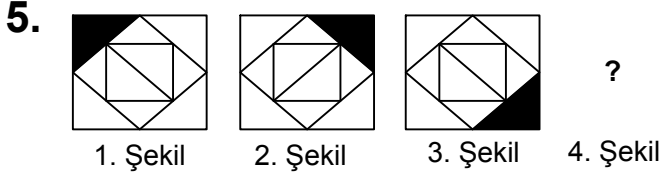


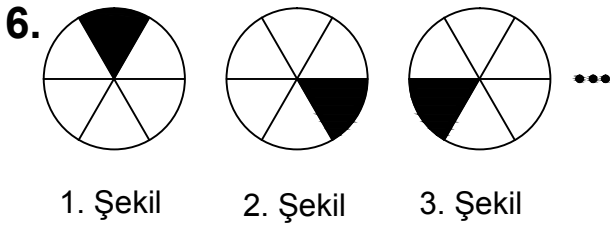
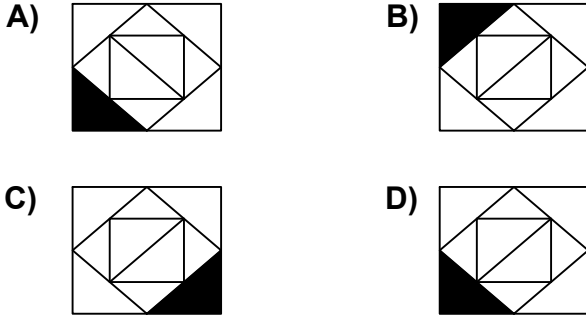


Ad : _____
Soyad : _____
Sınıf: _____ No: _____

Test-26




Yukarıda verilen dizi bir sıraya göre dizilmiştir.
Buna göre "?" yerne hangi şekil
gelmelidir?

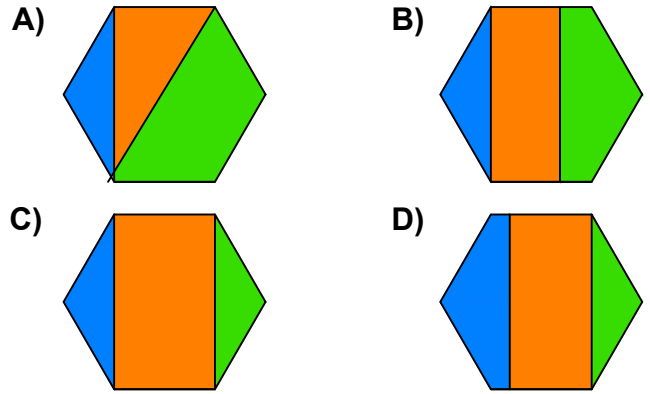


Yukarıda verilen şekil dizisi belli bir kurala
göre sıralanmıştır.
Bu kurala göre birinci şekil kaçınıcı şekilde
yenilenir?

- A) 4 B) 5
C) 6 D) 7



Yukarıda verilen parçalar ile aşağıdaki
şekillerden hangisi oluşturulabilir ?



8. Aşağıda verilen şekildedn hangisi bir
küpün açılımıdır ?

