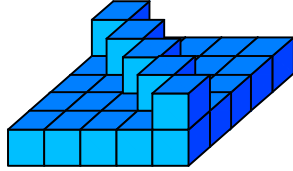
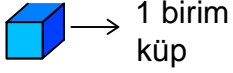




## Test-25

12.

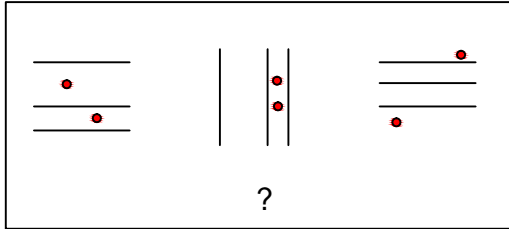


Yukarıda verilen şekil aynı büyüklükteki küp bloklardan oluşmaktadır.

Şekilde toplam kaç küp vardı?

- A) 26                      B) 28  
C) 30                      D) 31

13.

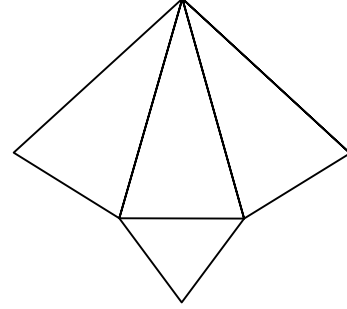


Yukarıdaki şekil grubunda ortak bir özellik vardır.

**Bu özellik aşağıdakilerden hangisinde vardır?**

- A)                      B)   
C)                      D)

14.



Yukarıda verilen şeklin kapalı durumu aşağıdakilerden hangisidir ?

- A)                      B)   
C)                      D)

15.



Yukarıda verilen dizi bir sıraya göre dizilmiştir.

**Buna göre "?" yerine aşağıdakilerden hangisi gelmelidir?**

- A)                      B)   
C)                      D)