




Ad : \_\_\_\_\_  
Soyad : \_\_\_\_\_  
Sınıf: \_\_\_\_\_ No: \_\_\_\_\_

## Test-25


9.




1. Şekil




2. Şekil




3. Şekil



4. Şekil



5. Şekil



6. Şekil

Yukarıda verilen dizi 1. şekil başlangıç olmak üzere belli bir sıraya göre dizilmiştir. Buna göre dizinin bozulmaması için hangi iki şekil yer değiştirmelidir ?

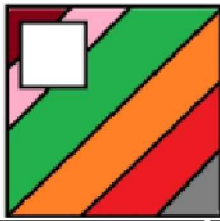
A) 2 - 5

B) 3 - 5

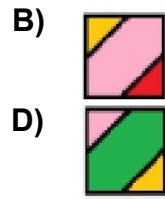
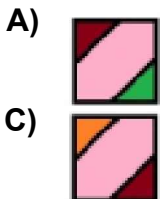
C) 2 - 4

D) 3 - 6


10.




Yukarıdaki resmin bir parçası çıkarılmıştır. Çıkarılan parça aşağıdakilerden hangisidir?



11.



Yukarıda verilen şekili oluşturabilmek için aşağıdaki şekillerden hangi ikisi tamamen kullanılmalıdır ?



A) 1 ve 2

B) 2 ve 4

C) 3 ve 4

D) 1 ve 4