

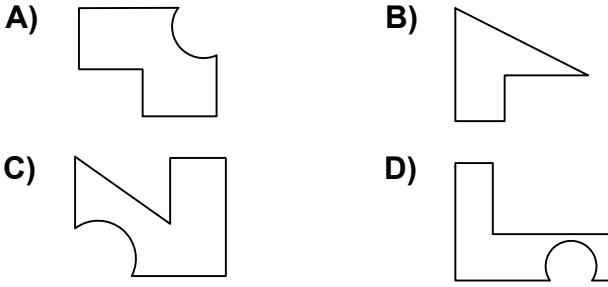


Ad : \_\_\_\_\_  
Soyad : \_\_\_\_\_  
Sınıf: \_\_\_\_\_ No: \_\_\_\_\_

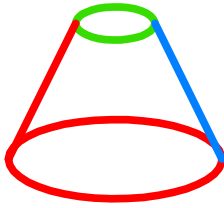
## Test-25

1. Aşağıdaki şekillerde verilen şekillerden biri diğerlerinden farklıdır.

Farklı olan şekil hangisidir?

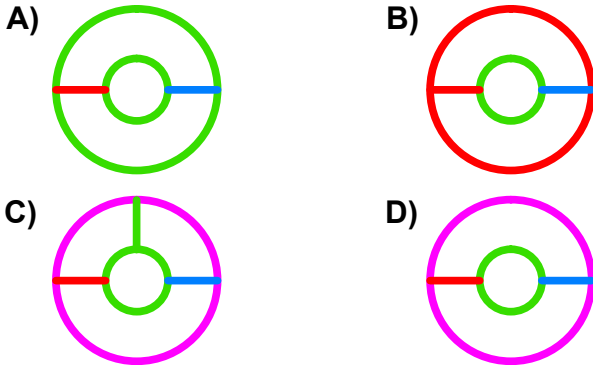


2.

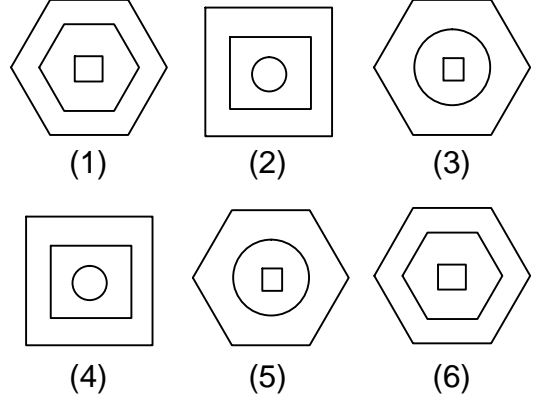


Yukarıda üç boyutlu bir geometrik cismin resmi gözükmemektedir.

Bu şeklin yukarıdan görünüşü aşağıdaki şekillerden hangisidir?



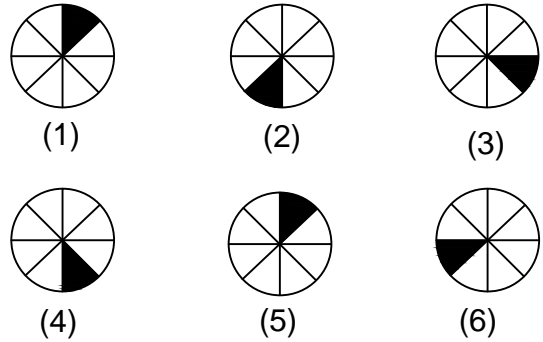
3.



Yukarıda numaralanmış şekiller ortak özelliklerine göre gruplandırılırsa doğru eşleşme hangileri olur?

- A) 1,6 - 2,4 - 3,5  
B) 1,5 - 3,5 - 2,4  
C) 3,5 - 1,4 - 2,6  
D) 1,6 - 3,5 - 2,4

4.



Yukarıda numaralanmış şekillerin sonlu bir dizi oluşturmaları için hangi ikisi yer değiştirilmelidir?

- A) 2 - 5  
B) 4 - 5  
C) 3 - 5  
D) 2 - 6