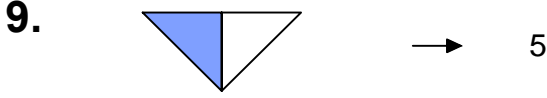


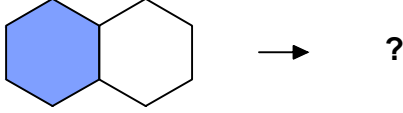


Ad : _____
Soyad : _____
Sınıf: _____ No: _____

Test-24

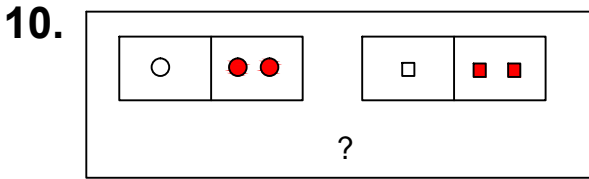


Yukarıdaki şekil - sayı eşleşmesine göre



eşleşmesinde " ? " yerine hangisi getirilmelidir?

- A) 11 B) 10
C) 9 D) 12



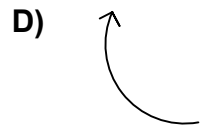
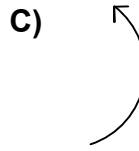
Yukarıdaki şekil grubunda ortak bir özellik vardır.

Bu özellik aşağıdakilerden hangisinde vardır?

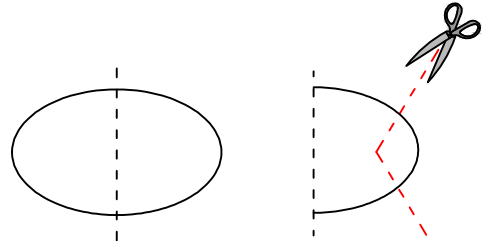
- A) B)
- C) D)

11. Aşağıdaki şekillerde verilen şekillerden biri diğerlerinden farklıdır.

Farklı olan şekil hangisidir?



12.



Şekil-1'deki kağıt Şekil-2'deki gibi katlanıp kesikli çizgilerle gösterilen yerlerinden kesiliyor.

Kağıt katlandığı yerden tekrar açıldığında aşağıdaki şekillerden hangisi meydana gelir ?

