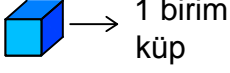


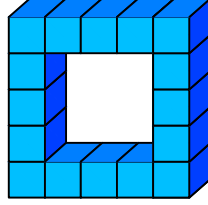


Test-24

5.



1 birim
küp

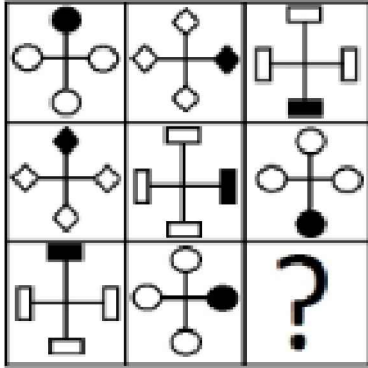


Yukarıda verilen şekil aynı büyüklükteki küp bloklardan oluşmaktadır.

Şekilde toplam kaç küp vardı?

- A) 16 B) 14
C) 10 D) 12

6.

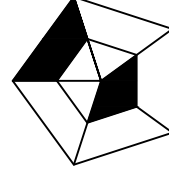


Yukarıdaki şekiller soldan sağa belli bir kurala göre dizilmiştir.

Buna göre "?" olan kutucuğa aşağıdakilerden hangisi gelmelidir ?

- A) B)
- C) D)

7.



Aşağıdaki şekillerden hangisi yukarıdaki şeklin negatfidir ?

- A) B) C) D)

8. Aşağıdaki şekillerde verilen şekillerden biri diğerlerinden farklıdır.

Farklı olan şekil hangisidir?

- A) B) C) D)