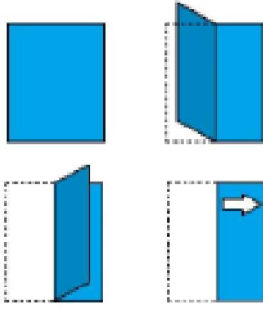


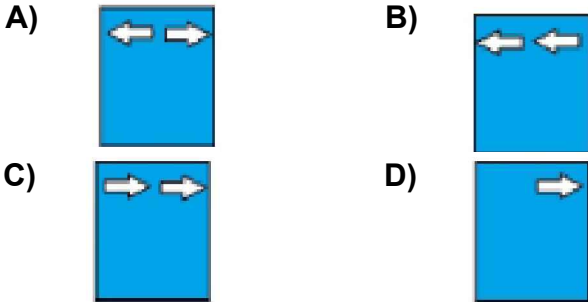


Test-23

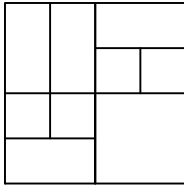
12.



Kağıt yukarıdaki şekildeki gibi katlanıp bir delik çalıyor.
Kağıt geri açıldığında oluşan yeni şekil aşağıdakilerden hangisi olur?



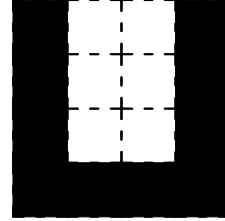
13.



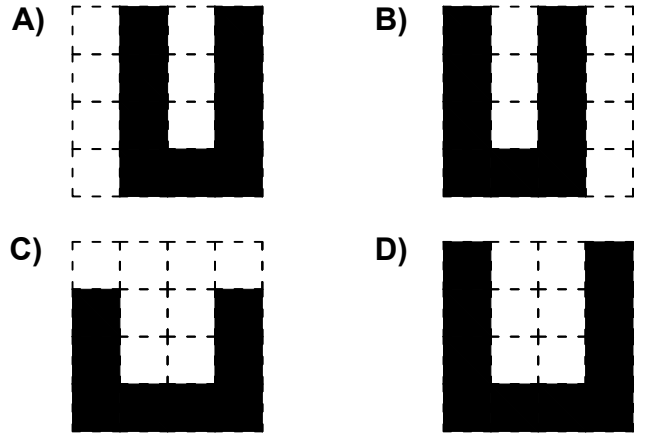
Yukarıda verilen şekilede kaç tane kare olmayan dikdörtgen vardır?

- A) 12 B) 11
C) 10 D) 9

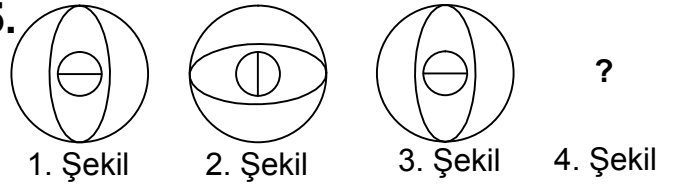
14.



Aşağıdaki şekillerden hangisi yukarıda verilen şekil ile aynıdır ?



15.



Yukarıda verilen dizi bir sıraya göre dizilmiştir.
Buna göre "?" yerne hangi şekil gelmelidir?

