





Ad : _____
Soyad : _____
Sınıf: _____ No: _____

Test-23

5.

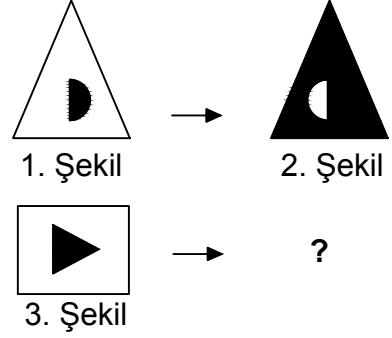


Yukarıda verilen şekili oluşturabilmek için aşağıdaki şekillerden hangi ikisi tamamen kullanılmalıdır ?



- A) 1 ve 2 B) 1 ve 3
C) 3 ve 4 D) 1 ve 4

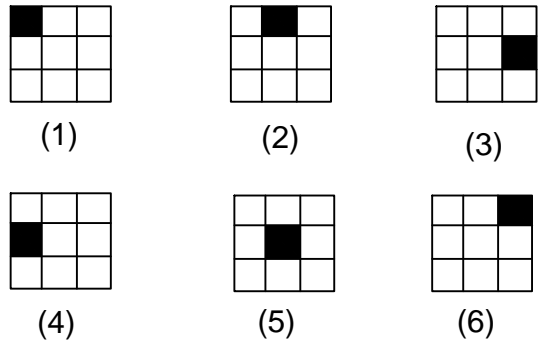
6.



1. şekil ve 2. şekil arasında bir ilişki bulunmaktadır.
Benzer ilişki 3. şekil ile hangisi arasında vardır

- A) B)
C) D)

7.



Yukarıda numaralanmış şekillerin sonlu bir dizi oluşturmaları için hangi ikisi yer değiştirilmelidir?

- A) 3 - 6 B) 4 - 6
C) 3 - 4 D) 5 - 6