




Test-22

12.




1. Şekil




2. Şekil



3. Şekil



4. Şekil



5. Şekil



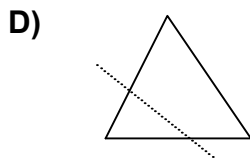
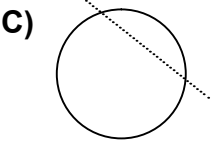
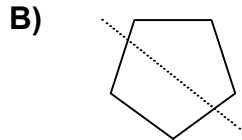
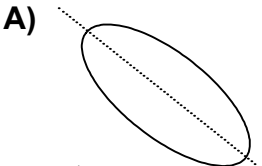
6. Şekil

Yukarıda verilen şekiller ikişerli olarak benzer özelliklere sahiptir.

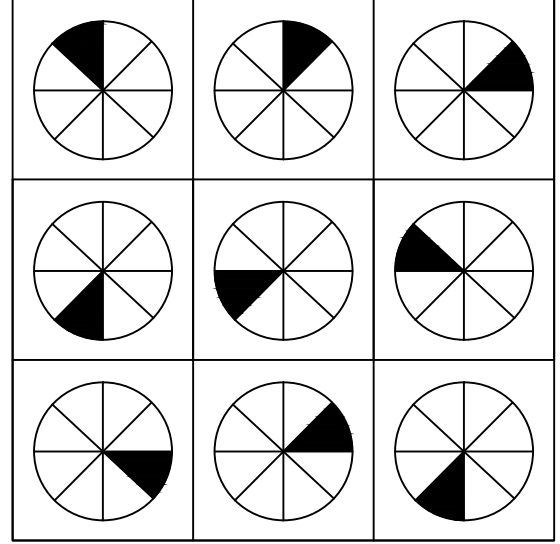
Buna göre benzer özellik taşıyan şekiller aşağıdakilerden hangisinde doğru olarak gruplanmıştır?

- A) 2,4 - 1,5 - 3,6
- B) 1,6 - 2,4 - 3,5
- C) 2,4 - 1,1 - 3,6
- D) 2,6 - 1,5 - 3,4

13. Aşağıdaki seçeneklerde verilen şekiller çizgi boyunca katlandığında üst üste gelen (çakışan) şekil hangisidir.



14.



Her sıradaki şekiller belli bir kurala göre dizi oluşturmaktadır.

Buna göre kuralı bozan şekil aşağıdakilerden hangisinde verilmiştir?

