



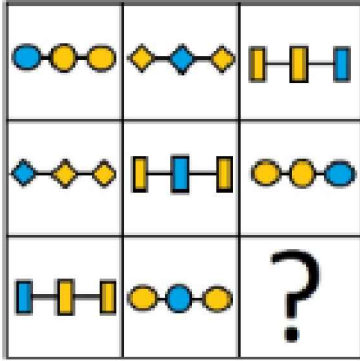
Ad : _____
Soyad : _____
Sınıf : _____ No : _____

Test-22

8. Yukarıda verilen şekildedeki hangisi bir küpün açılımıdır ?

- A)
- B)
- C)
- D)

9.





Yukarıdaki şekiller soldan sağa belli bir kurala göre dizilmiştir.

Buna göre "?" olan kutucuğa aşağıdakilerden hangisi gelmelidir ?

- A)
- B)
- C)
- D)

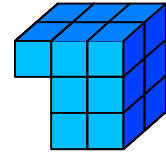
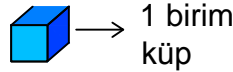
10.



Yukarıda verilen parçalar ile aşağıdaki şekillerden hangisi oluşturulabilir ?

- A)
- B)
- C)
- D)

11.



Yukarıda verilen şekil aynı büyüklükteki küp bloklardan oluşmaktadır.

Şekilde toplam kaç küp vardı ?

- A) 12
B) 14
C) 16
D) 18