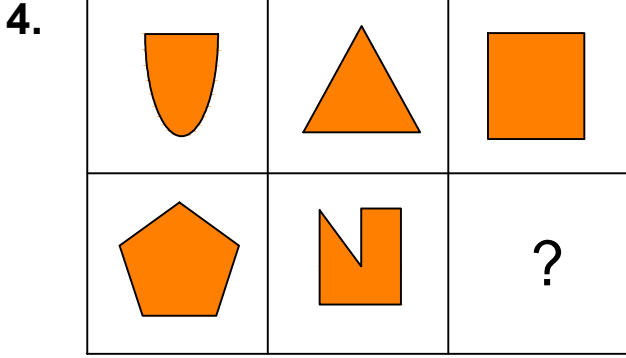


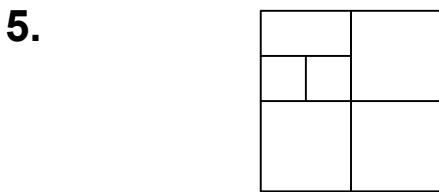
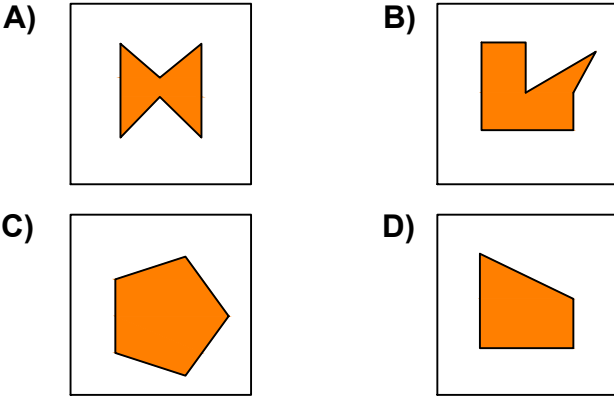


Test-22



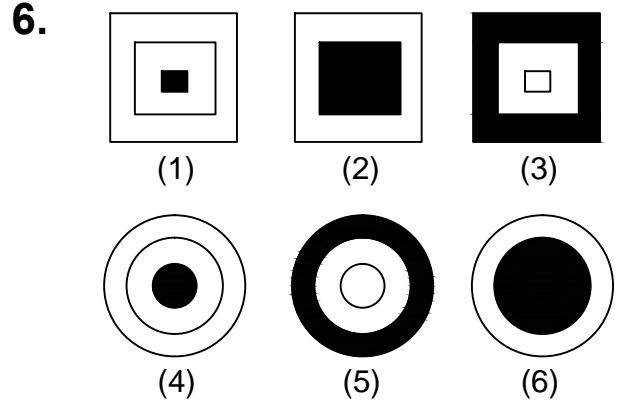
Yukarıda verilen şekiller soldan sağa belli bir kurala göre sıralanmıştır.

Buna göre "?" kutucuğa aşağıdakilerden hangisi gelmelidir?



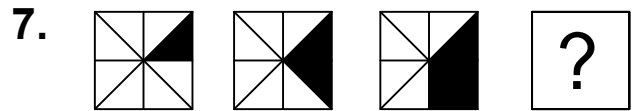
Yukarıda verilen şekilede kaç tane kare olmayan dikdörtgen vardır?

- A) 7 B) 6
C) 5 D) 4



Yukarıda numaralanmış şekiller ortak özelliklerine göre gruplandırılırsa doğru eşleşme hangileri olur?

- A) 1,6 - 2,5 - 3,4
B) 3,5 - 1,4 - 2,6
C) 1,4 - 2,6 - 3,5
D) 1,5 - 2,6 - 3,4



Yukarıda verilen şekiller bir kurala göre sonlu bir şekil dizisi oluşturmaktadır.

Buna göre "?" yerine hangi seçenekteki şekil getirilmelidir?

