




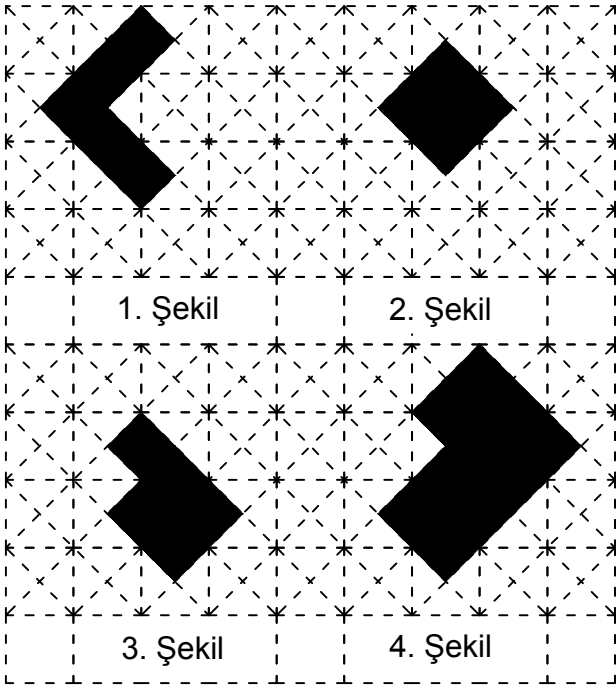
Ad : _____
Soyad : _____
Sınıf: _____ No: _____

Test-22

1.



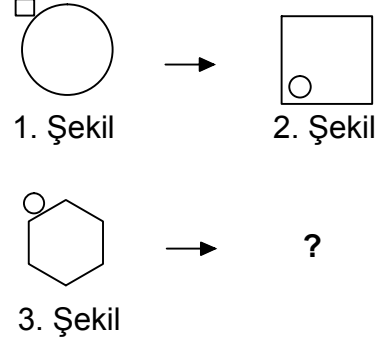
Yukarıda verilen şekili oluşturabilmek için aşağıdaki şekillerden hangi ikisi tamamen kullanılmalıdır ?



- A) 1 ve 2
C) 3 ve 4

- B) 1 ve 3
D) 1 ve 4

2.

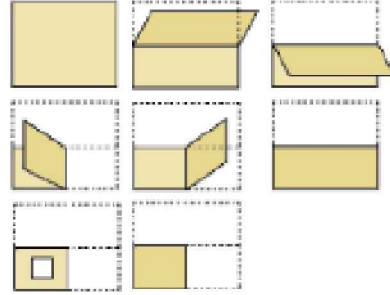


1. şekil ve 2. şekil arasında bir ilişki bulunmaktadır.

Benzer ilişki 3. şekil ile hangisi arasında vardır

- A) B)
C) D)

3.



Kağıt yukarıdaki şekildeki gibi katlanıp bir delik çalıyor.

Kağıt geri açıldığında oluşan yeni şekil aşağıdakilerden hangisi olur?

- A) B)
C) D)