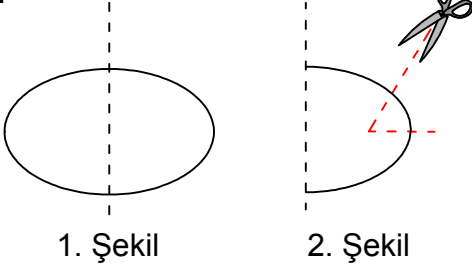




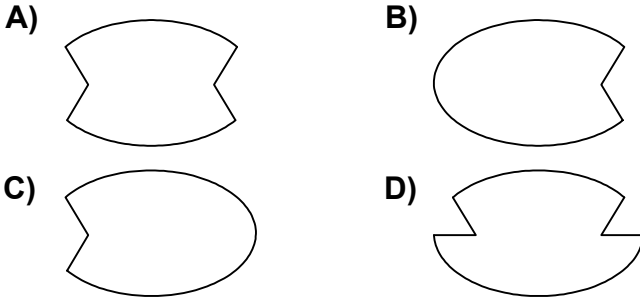
## Test-21

12.

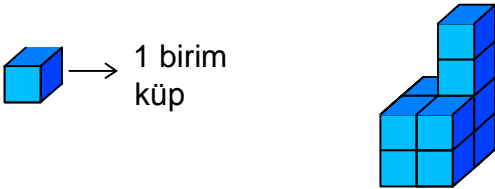


Şekil-1'deki kağıt Şekil-2'deki gibi katlanıp kesikli çizgilerle gösterilen yerlerinden kesiliyor.

**Kağıt katlandığı yerden tekrar açıldığında aşağıdaki şekillerden hangisi meydana gelir ?**



13.




Yukarıda verilen şekil aynı büyüklükteki küp bloklardan oluşmaktadır.

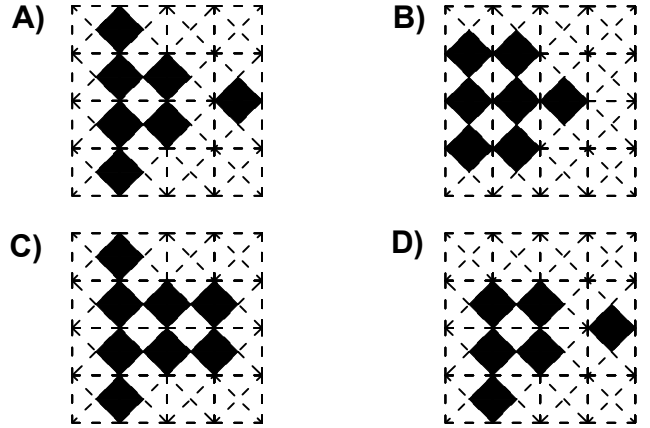
**Şekilde toplam kaç küp vardı?**

- A) 8                      B) 10  
C) 11                     D) 12

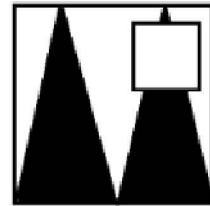
14.



**Aşağıdaki şekillerden handisi yukarıda verilen şekil ile aynıdır ?**



15.



Yukarıdaki resmin bir parçası çıkarılmıştır.  
**Çıkarılan parça aşağıdakilerden hangisidir?**

