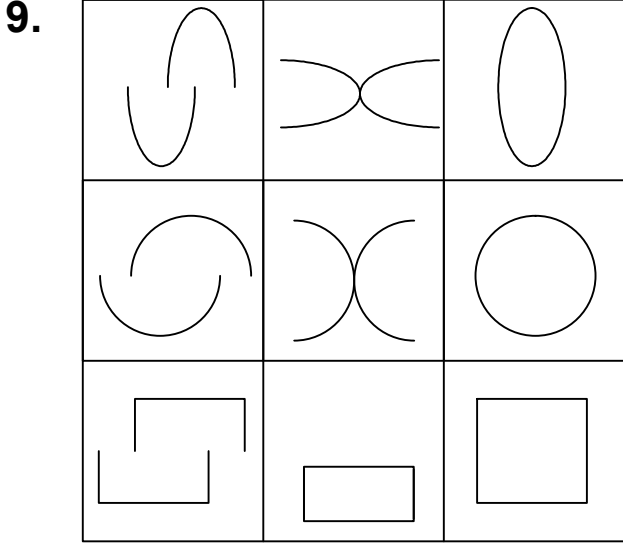


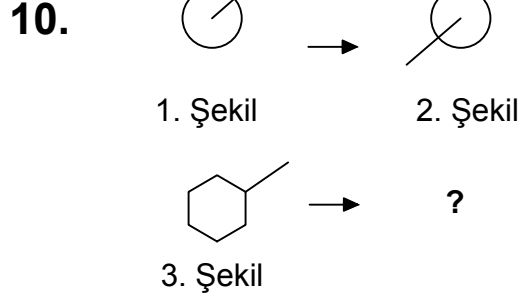
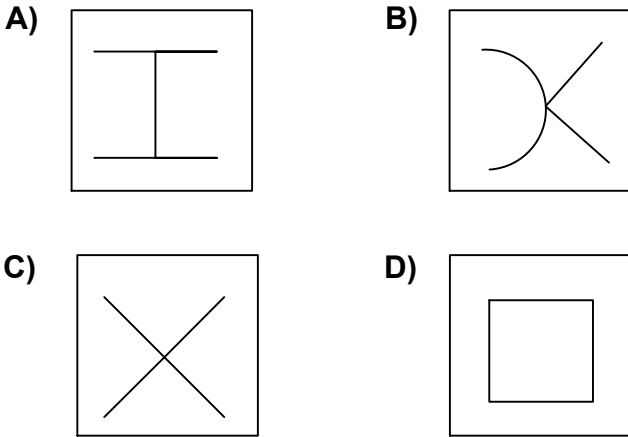


Ad : _____
Soyad : _____
Sınıf: _____ No: _____

Test-21

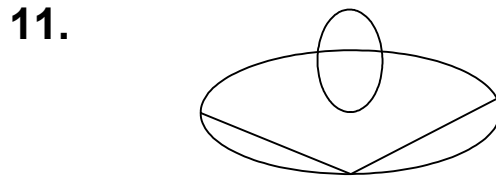
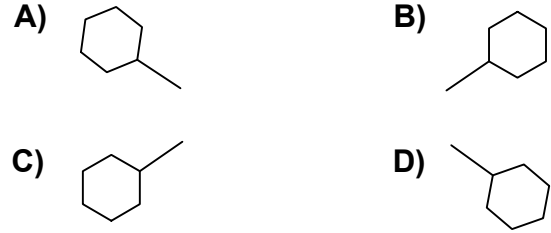


Yukarıda verilen şekiller soldan sağa belli bir kurala göre sıralanmıştır.
Buna göre kuralı bozan şekil yerine aşağıdakilerden hangisi gelmelidir?



1. şekil ve 2. şekil arasında bir ilişki bulunmaktadır.

Benzer ilişki 3. şekil ile hangisi arasında vardır



Yukarıdaki şekil bir çok küçük şeklin bir araya gelmesi ile oluşmuştur.

Aşağıdaki şekillerden hangisi yukarıdaki şekilde yoktur ?

