

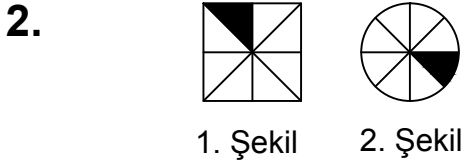
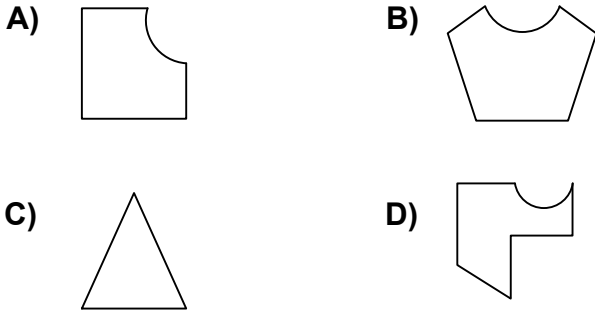


Ad : _____
Soyad : _____
Sınıf: _____ No: _____

Test-21

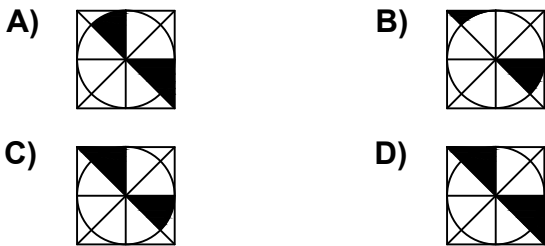
1. Aşağıdaki şekillerde verilen şekillerden biri diğerlerinden farklıdır.

Farklı olan şekil hangisidir?

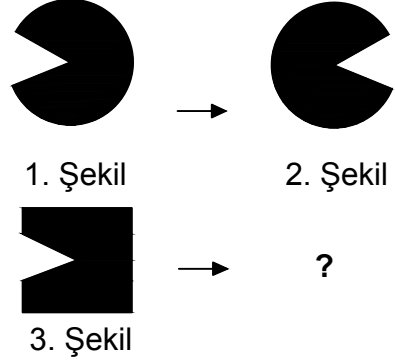


Yukarıda verilen şekiller üst üste getirilmektedir.

Oluşan yeni şekil aşağıdakilerden hangisi olabilir?




3.

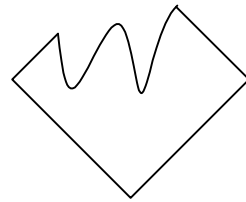


1. şekil ve 2. şekil arasında bir ilişki bulunmaktadır.

Benzer ilişki 3. şekil ile hangisi arasında vardır



4.



Yukarıdaki şekil aşağıdaki şekillerden hangisi ile birleşirse bir dörtgen oluşur ?

