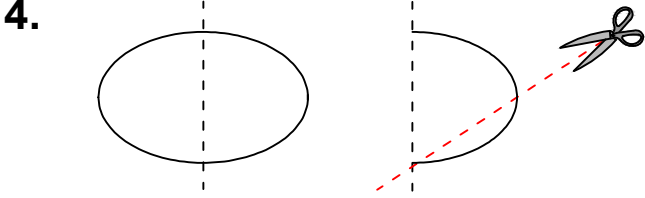




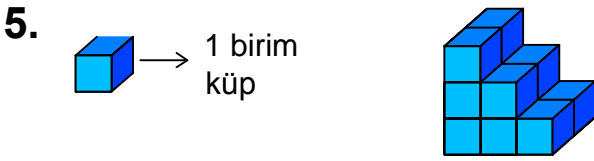
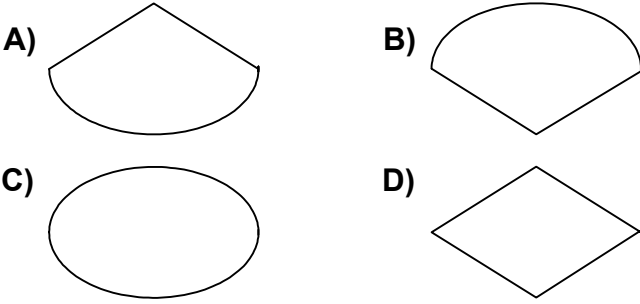
Ad : _____
Soyad : _____
Sınıf: _____ No: _____

Test-20



Şekil-1'deki kağıt Şekil-2'deki gibi katlanıp kesikli çizgilerle gösterilen yerlerinden kesiliyor.

Kağıt katlandığı yerden tekrar açıldığında aşağıdaki şekillerden hangisi meydana gelir ?



Yukarıda verilen şekil aynı büyüklükteki küp bloklardan oluşmaktadır.

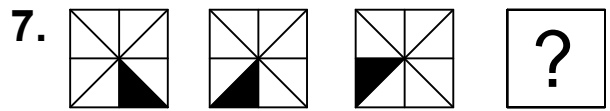
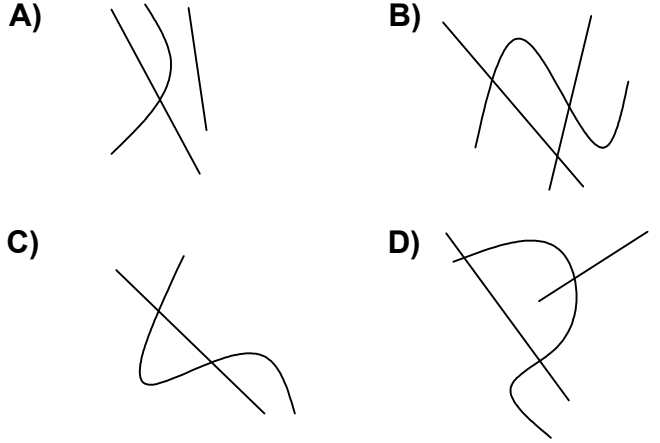
Şekilde toplam kaç küp vardı?

- A) 12 B) 10
C) 14 D) 16



Yukarıdaki şekiller arasında ortak bir özellik vardır.

Bu ortak özellik aşağıdakilerden hangisinde mevcuttur ?



Yukarıda verilen şekiller bir kurala göre sonlu bir şekil dizisi oluşturmaktadır.

Buna göre "?" yerine hangi seçenekteki şekil getirilmelidir?

